

ARA TATİL

TEKRAR ÇALIŞMALARI

1. SINIF





► Aşağıdaki boşlukları alfabetik sıralamaya göre dolduralım.

1 2 3 4 5 6 7 8 9 10 11 12
A-a B-b Ç-ç D-d G-g H-h I-ı

13 14 15 16 17 18 19 20 21 22 23 24
J-j K-k M-n N-n O-ö P-p S-s Ş-ş

25 26 27 28 29
U-u V-v Z-z

► Aşağıdaki cümleleri 3'er defa okuyunuz. Sorularını cevaplayınız.

- Ramazan Bayramı, sevinç ve mutlulukla kutlanır.

Ramazan Bayramı, nasıl kutlanır?



- Çocuklar bayramda büyüklerinden harçlık alır.

Çocuklar bayramda ne alır?





► Yıldızların üzerindeki toplama ve çıkarma işlemlerini yap ve boya sonra da dünyaya ulaşı!

$$\begin{array}{r} 5 \\ +2 \\ \hline \end{array}$$

$$\begin{array}{r} 6 \\ -3 \\ \hline \end{array}$$

$$\begin{array}{r} 7 \\ +3 \\ \hline \end{array}$$

$$\begin{array}{r} 9 \\ -4 \\ \hline \end{array}$$

$$\begin{array}{r} 6 \\ +5 \\ \hline \end{array}$$

$$\begin{array}{r} 8 \\ -6 \\ \hline \end{array}$$

$$\begin{array}{r} 12 \\ +3 \\ \hline \end{array}$$

$$\begin{array}{r} 15 \\ -6 \\ \hline \end{array}$$

$$\begin{array}{r} 10 \\ +6 \\ \hline \end{array}$$

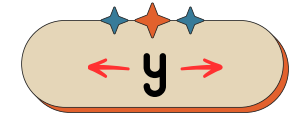
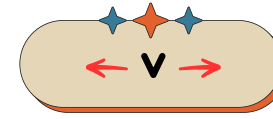
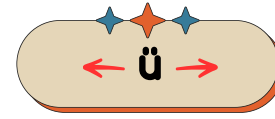
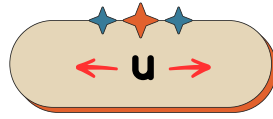
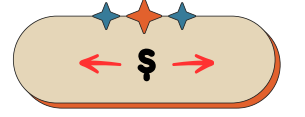
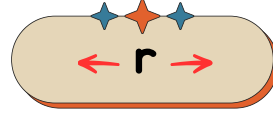
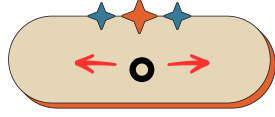
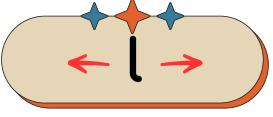
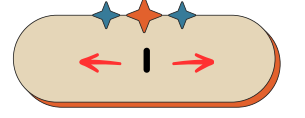
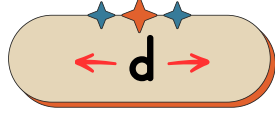
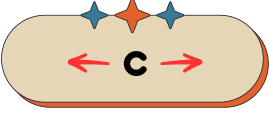
$$\begin{array}{r} 12 \\ -7 \\ \hline \end{array}$$

$$\begin{array}{r} 14 \\ +3 \\ \hline \end{array}$$

$$\begin{array}{r} 17 \\ -7 \\ \hline \end{array}$$



► Aşağıdaki seslerin önceki ve sonraki seslerini alfabetik sıralamaya göre yazınız.



► Aşağıdaki tekerlemeyi 3 defa okuyunuz. Sorularını cevaplayınız.

Uzakta bir kedi koşmuş yola,
Yola koşmuş kedi bakmış köpeğe,
Köpek havlamış, koşmuş ormana,
Orman kararmış geceye.



Kedi yola koştuğu zaman nereye gitmiş?

Ormana Eve Bahçeye



► Aşağıdaki toplama ve çıkarma işlemlerini yapalım. Şifreyi çözerek kraliçe arıyı kurtaralım.

$$\begin{array}{r} \text{R} \\ 2 \\ + 1 \\ \hline \end{array}$$

$$\begin{array}{r} \text{A} \\ 7 \\ - 2 \\ \hline \end{array}$$

$$\begin{array}{r} \text{Ç} \\ 5 \\ + 3 \\ \hline \end{array}$$

$$\begin{array}{r} \text{E} \\ 14 \\ - 5 \\ \hline \end{array}$$

$$\begin{array}{r} \text{İ} \\ 6 \\ + 6 \\ \hline \end{array}$$

$$\begin{array}{r} \text{K} \\ 14 \\ - 1 \\ \hline \end{array}$$

$$\begin{array}{r} \text{L} \\ 8 \\ + 3 \\ \hline \end{array}$$

$$\begin{array}{r} \text{M} \\ 19 \\ - 4 \\ \hline \end{array}$$



13

3

5

11

12

8

9

15





► Aşağıdaki kelimeleri hecelerine ayıralım.

defter →

masa →

kapı →

halı →

saz →

kayısı →

tepsi →

kanguru →

halat →

kupa →

dondurma →

hurma →

► Aşağıdaki tekerlemeyi 3 defa okuyunuz. Sorularını cevaplayınız.

Bir tavuk yürümüş bahçeye,
Bahçede tavuk bakmış çiçeğe,
Çiçek açmış sabaha
Sabah doğmuş güneşe.



Tavuk nereye yürümüş?

Ormana

Eve

Bahçeye



► Aşağıdaki toplama ve çıkarma işlemlerini yapalım. Boyamalarını tamamlayalım.

$12 - 5 =$

$7 + 1 =$

$15 - 6 =$

$10 + 5 =$

$13 - 7 =$

$8 + 2 =$

$15 - 8 =$

$15 + 4 =$

$16 - 5 =$

$12 + 3 =$

$16 - 8 =$

$13 + 2 =$

6 = sarı

7 = mavi

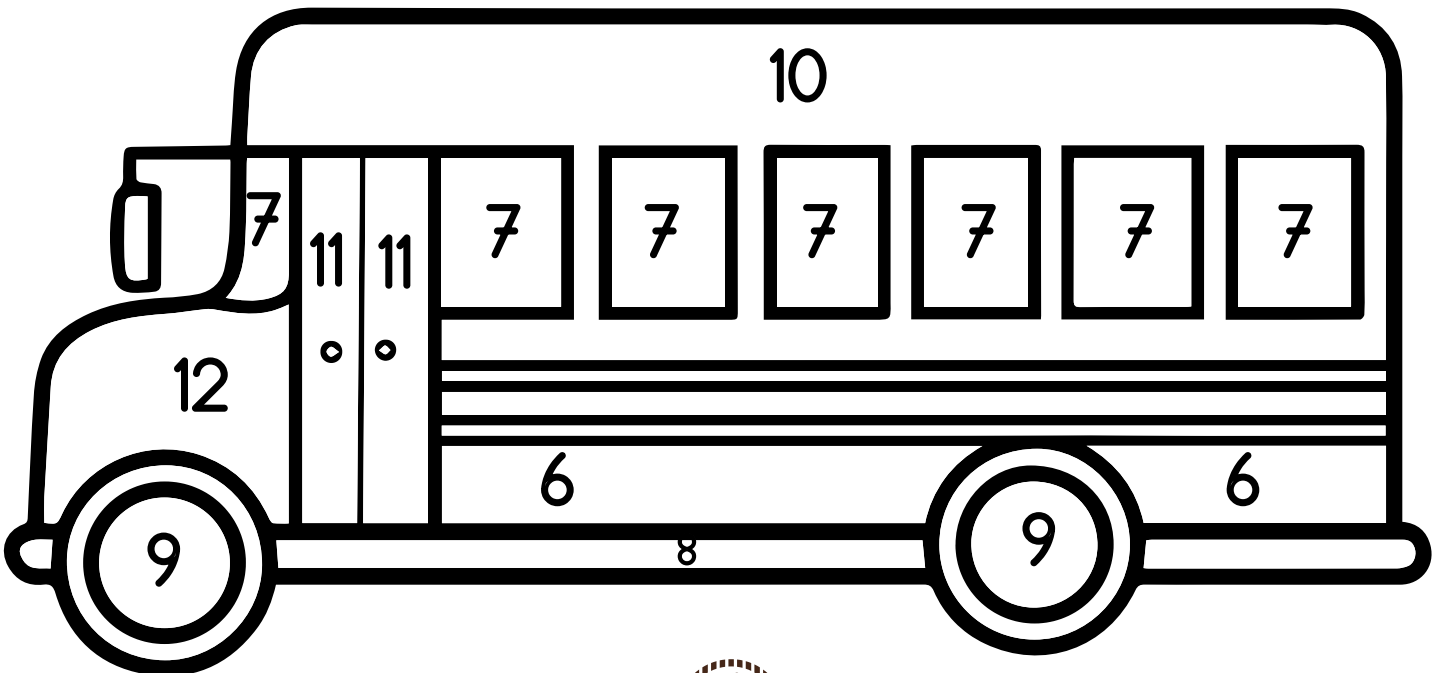
8 = yeşil

9 = siyah

11 = kahverengi

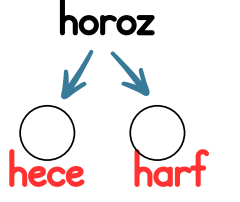
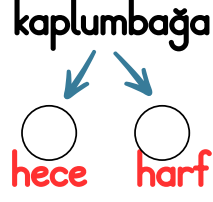
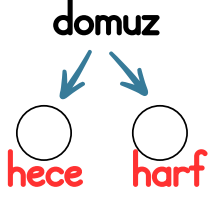
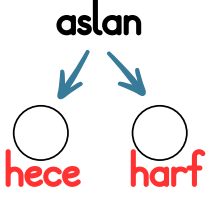
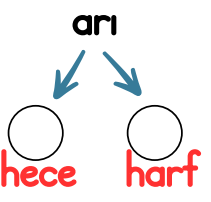
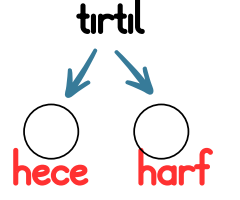
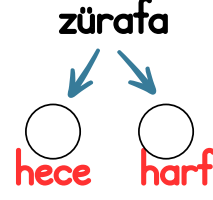
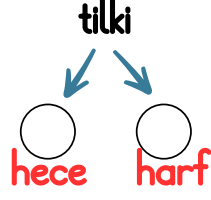
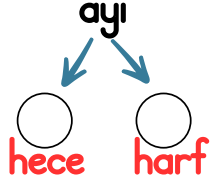
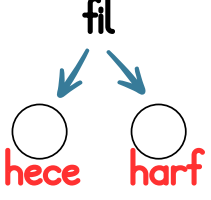
12 = gri

10 = mor





► Aşağıdaki kelimelerin hece ve harf sayılarını yazalım.



► Aşağıdaki tekerlemeyi 3 defa okuyunuz. Sorularını cevaplayınız.

Bir arı uçmuş kovana,
Kovandaki balı tatmış doyana,
Bal damlamış çimene,
Çimen eğilmiş suya.



Arı nereye uçmuş?

Kovana Ağaca Çiçeğe



► Aşağıdaki toplama ve çıkarma işlemlerini yapalım.

$0 + 10 =$

$1 + 9 =$

$2 + 8 =$

$3 + 7 =$

$4 + 6 =$

$5 + 5 =$

$6 + 4 =$

$7 + 3 =$

$8 + 2 =$

$9 + 1 =$

$10 + 0 =$



$$\begin{array}{r} 10 \\ - 0 \\ \hline \end{array}$$

$$\begin{array}{r} 11 \\ - 1 \\ \hline \end{array}$$

$$\begin{array}{r} 12 \\ - 2 \\ \hline \end{array}$$

$$\begin{array}{r} 13 \\ - 3 \\ \hline \end{array}$$

$$\begin{array}{r} 14 \\ - 4 \\ \hline \end{array}$$

$$\begin{array}{r} 15 \\ - 5 \\ \hline \end{array}$$

$$\begin{array}{r} 16 \\ - 6 \\ \hline \end{array}$$

$$\begin{array}{r} 17 \\ - 7 \\ \hline \end{array}$$

$$\begin{array}{r} 18 \\ - 8 \\ \hline \end{array}$$

$$\begin{array}{r} 19 \\ - 9 \\ \hline \end{array}$$

$$\begin{array}{r} 20 \\ - 10 \\ \hline \end{array}$$





► Aşağıdaki şiiri 3 defa okuyup Türkçe defterinize yazınız.

Ramazan Bayramı

Bayram geldi ne güzel,
Herkes mutlu, sende gel.
Tatlılar var, şekerler,
Sevgi dolar her evde.

Büyükleri ziyaret et,
Bayramlaşalım neşeye.
Sevgi, dostluk hep bizimle,
Bayram kutlu olsun bize!

SORULAR:

1-Şiire göre tatlıların yanında ne var?

Elmalar

Şekerler

İçecekler

2-Şiirde büyükleri ne yapmamız söyleniyor?

Ziyaret etmek

Üzmek

Yanlarına gitmemek

3-Bayram gelince insanlar nasıl hissediyor?

.....



- Aşağıdaki toplama ve çıkarma işlemlerini yapalım. Sonuçları aynı olan işlemlerin kutucuklarını aynı renge boyayalım.

$\begin{array}{r} 4 \\ + 4 \\ \hline \end{array}$	$\begin{array}{r} 8 \\ - 2 \\ \hline \end{array}$	$\begin{array}{r} 14 \\ + 3 \\ \hline \end{array}$	$\begin{array}{r} 9 \\ - 1 \\ \hline \end{array}$	$\begin{array}{r} 3 \\ + 3 \\ \hline \end{array}$	$\begin{array}{r} 18 \\ - 1 \\ \hline \end{array}$
$\begin{array}{r} 6 \\ + 7 \\ \hline \end{array}$	$\begin{array}{r} 12 \\ - 7 \\ \hline \end{array}$	$\begin{array}{r} 2 \\ + 3 \\ \hline \end{array}$	$\begin{array}{r} 16 \\ - 4 \\ \hline \end{array}$	$\begin{array}{r} 6 \\ + 6 \\ \hline \end{array}$	$\begin{array}{r} 15 \\ - 2 \\ \hline \end{array}$

- Aşağıdaki toplama ve çıkarma işlemlerini yapalım. Sonuçları aynı olanları eşleştirelim.

$$18 - 8$$

$$12$$

$$16 - 4$$

$$8 + 4$$

$$10$$

$$6 + 4$$

$$13 - 5$$

$$8$$

$$3 + 5$$

Ramazan Bayramınız Kutlu Olsun

