

1. Sınıflar

Hafta Sonu Ev Ödevi

(9-10 Mayıs)



@huseyin.ogretmenn



huseyinogretmenn.com

5N 1K Soruları



Aşağıdaki cümleleri okuyunuz. Sorularını cümlelere uygun cevaplayınız.

→ Ayşe pastadan bir dilim kesti.

Kim kesti?

Ne kesti?

Nereden kesti?

→ Yasemin kalemini yere düşürdü.

Kim düşürdü?

Neyi düşürdü?

Nereye düşürdü?

→ Yusuf odasına oyuncak koydu.

Kim koydu?

Ne koydu?

Nereye koydu?

→ Miraç bahçede müzik açıp oynadı.

Kim oynadı?

Ne açtı?

Nerede açtı?

→ Fatma parka kuş yemi bıraktı.

Kim bıraktı?

Nereye bıraktı?

Neyi bıraktı?

→ İlayda arkadaşına mektup verdi.

Kim verdi?

Kime verdi?

Ne verdi?

Tekerleme



Aşağıdaki tekerlemeleri ezberleyelim. İlgili sorularını cevaplayalım.

Bahçeye girdi ördek,
Çiftçi attı bir terlik,
Uçtu gitti ördek,
Hem terlik,
Hem güldü ördek!



Çiftçi ne attı?

Kasa kasa marul,
Marul sarar sarı pul.
Dursa marul kasada,
Pul uçar havada!



Kasada ne var?

Şiir Çalışması

Aşağıdaki şiiri 5 defa okuyup çizgili defterimize yazalım. Ardından sorularını çözüp, boyayalım.

Annem

Sabah bana gülümsedin,
Saçımı da taradın.
Çantamı alıp elime,
Güzelce uğurladın.

Senin gibi yok dünyada,
Kalbin dolu sevgiyle.
Canım annem iyi ki var,
Kucaklarım neşe ile.

1-Sabah ne olmuş?

2-Anne kalbi nasıldır?

.....

.....



Metin Okuma

Aşağıdaki metni 3 defa okuyunuz. Türkçe defterlerinize yazınız.

Anneler Günü

10 Mayıs Anneler Günü. Annem için güzel bir resim yaptım. Kocaman bir kalp çizdim içine. Annem resmi görünce çok mutlu olacaktır. Ona sarılacağım ve "Seni çok seviyorum." diyeceğim.

1- 10 Mayıs'ta ne kutlanır?

- Babalar Günü
- Anneler Günü
- Çocuklar Günü



2- Çocuk annesi için ne yapmış?

- Resim yapmış
- Çanta almış
- Çiçek almış



3- Çocuk ona sarılıp ne diyecek?

Nesnelerin Geometrisi

Aşağıdaki numaralandırılmış görsellerin hangi şekillere benzediğini bulup şeklin numarasını kutucuğuna yazınız.

ÜÇGEN



KARE



ÇEMBER



DİKDÖRTGEN




1



2




3




4



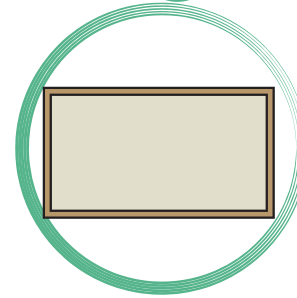
5




6



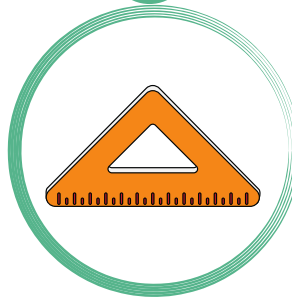
7




8



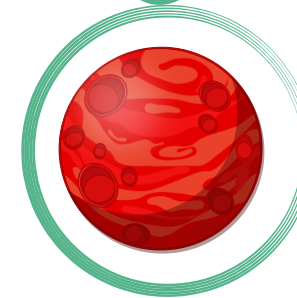
9




10



11




12



Nesnelerin Geometrisi

Aşağıdaki resimlerde üçgen, kare, dikdörtgen ve çember sayılarını bulalım. Ardından resimleri boyayalım.




..... tane üçgen vardır.

..... tane kare vardır.

..... tane çember vardır.

..... tane dikdörtgen vardır.



..... tane üçgen vardır.

..... tane kare vardır.

..... tane çember vardır.

..... tane dikdörtgen vardır.

Toplama ve Çıkarma İşlemleri

Aşağıdaki işlemleri yapınız.



+

3	2	5	7	8	8
+ 3	+ 6	+ 1	+ 5	+ 4	+ 2
—	—	—	—	—	—



-

2	7	9	7	4	15
- 0	- 6	- 1	- 7	- 0	- 3
—	—	—	—	—	—



+

5	6	3	12	0	14
+ 8	+ 9	+ 7	+ 2	+ 5	+ 7
—	—	—	—	—	—



-

8	7	11	14	18	20
- 2	- 2	- 6	- 8	- 9	- 8
—	—	—	—	—	—



< huseyin.ogretmenn



Hüseyin ÖZTÜRK

386
gönderi

52,2B
takipçi

542
takip

Eğitim



Çalışmalarımı beğendiyseniz destek
olmak için sayfamı takip etmeyi,
beğenmeyi ve kaydetmeyi unutmayınız.



huseyin.ogretmenn



www.huseyinogretmenn.com