

1.Sınıf

Nisan Ayı Genel Deęerlendirme

Türke



Matematik



Hayat
Bilgisi



@huseyin.ogretmenn



- 1 Aşağıdaki şiiri 3 defa okuyup sorularını cevaplayınız.

Atalarımızın İzinde

Geçmiş bize yol gösterir,
Atalarımızı severiz.
Onların izinden gider,
Güzel işler yaparız.

Bayrağımız dalgalanır,
Kalbimiz sevgiyle dolar.
Atalarımızın izinde,
Güzel yarınlar kurarız.

- Şiirde bize yol gösteren kimdir?

- Arkadaşlarımız
 Geçmişimiz
 Oyuncaklarımız

- Şiirde çocuklar kimi seviyor?

- Öğretmenlerini
 Komşularını
 Atalarını

- Güzel yarınları ne yaparak kurarız?

.....

- 2 Aşağıdaki sorularda doğru kutucuğu işaretleyiniz.

- Alfabemizle ilgili hangisi doğrudur?

- Alfabemizde 26 harf vardır.
 Alfabemizin ilk harfi B'dir.
 Alfabemizde 29 harf vardır.

- Aşağıdaki kelimelerden hangisi hecelerine yanlış ayrılmıştır?

- kalem → ka-lem
 defter → def-ter
 öğrenci → öğ-re-nci

- Satır sonuna sığmayan kelimelerde hangisi doğru ayrılmıştır?

fa züra -



umbağa kapl -



- Alfabetik sıraya göre hangisi önce gelir?

- defter ★ ★ ★
 kalem
 çanta

- "elma" kelimesinde kaç hece vardır?

- 1 2 3



1 Aşağıdaki alt alta toplama ve çıkarma işlemlerini yapınız.

$$\begin{array}{r} \text{Cat} \\ 3 \\ + 6 \\ \hline \end{array}$$

$$\begin{array}{r} \text{Cat} \\ 5 \\ + 8 \\ \hline \end{array}$$

$$\begin{array}{r} \text{Cat} \\ 7 \\ + 6 \\ \hline \end{array}$$

$$\begin{array}{r} \text{Cat} \\ 9 \\ - 3 \\ \hline \end{array}$$

$$\begin{array}{r} \text{Cat} \\ 5 \\ - 1 \\ \hline \end{array}$$

$$\begin{array}{r} \text{Cat} \\ 15 \\ - 6 \\ \hline \end{array}$$

2 Aşağıdaki yan yana toplama ve çıkarma işlemlerini yapınız.

$$\begin{array}{r} \text{Cat} \\ 1 + 6 = \end{array}$$

$$\begin{array}{r} \text{Cat} \\ 6 - 1 = \end{array}$$

$$\begin{array}{r} \text{Cat} \\ 8 + 3 = \end{array}$$

$$\begin{array}{r} \text{Cat} \\ 9 - 3 = \end{array}$$

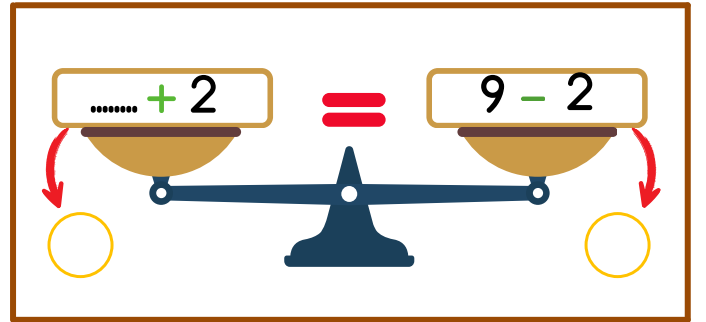
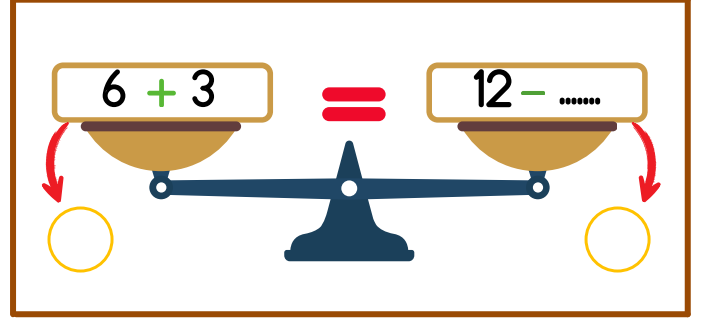
$$\begin{array}{r} \text{Cat} \\ 5 + 9 = \end{array}$$

$$\begin{array}{r} \text{Cat} \\ 8 - 2 = \end{array}$$

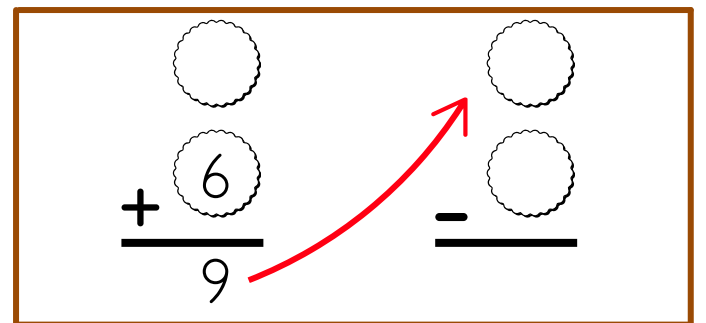
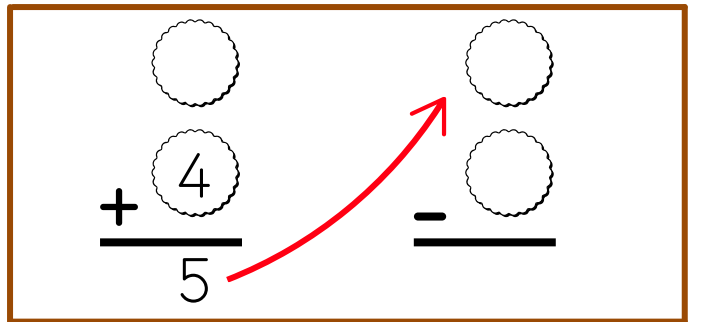
$$\begin{array}{r} \text{Cat} \\ 12 + 7 = \end{array}$$


$$\begin{array}{r} \text{Cat} \\ 13 - 5 = \end{array}$$

3 Aşağıdaki terazilerdeki eşitliği sağlayınız.



4 Aşağıdaki verilmeyen toplananları yapınız.





1 Aşağıdaki sorularda doğru kutucuğu işaretleyiniz.

► Aşağıdakilerden hangisi canlıdır?

taş

su

kuş

► Güneş, Ay ve Dünya nedir?

Oyuncak

Gök cismi

Eşya

► Hangisi diğerlerinden daha büyüktür?

Güneş

Dünya

Ay

► Ay'ın ışığı nereden gelir?

Kendinden

Güneş'ten

Dünya'dan

► Güneş olmasaydı ne olurdu?

Her yer aydınlık olurdu

Her yer karanlık ve soğuk olurdu

Yağmur yağardı

@huseyin.ogretmen



2 Aşağıdaki sorularda doğru kutucuğu işaretleyiniz.

► Aşağıdakilerden hangisi bir afettir?

Yangın

Piknik

Tüp

► Deprem sırasında ne yapmalıyız?

Çök, kapan ve tutun yapmalıyız

Anında koşmalıyız.

Bağırp, ağlamalıyız

► Sel nedir?

Çok yağmur yağması ile su baskını

Kar yağması

Rüzgar esmesi

► Heyelan nedir?

Su baskını

Kar yağması

Toprak kayması

► Doğal afetlerde en önemli şey nedir?

Sakin kalmalıyız

Bağırmalıyız

Ağlamalıyız

1.Sınıf Nisan Ayı Genel Değerlendirme

[0-9 Puan] Geliştirmeli [10-18 Puan] Orta [19-27 puan] İyi [28-36 puan] Çok İyi		T.0.1.1. Okuma sürecini yönetebilme. T.0.1.2. Okuduklarını çözümlenebilme. 8 puan	MAT.1.2.4. Toplama ve çıkarma işlemlerinin ilişkisini yorumlayabilme. 18 puan	HB.1.5.2. Modeller üzerinden gök cisimlerini karşılaştırabilme. HB.1.5.3.A. Fes türlerini tanıyabilme 10 puan		
	Adı-Soyadı	Türkçe	Matematik	Hayat Bilgisi	T.P	Değerlendirme
1						
2						
3						
4						
5						
6						
7						
8						
9						
10						
11						
12						
13						
14						
15						
16						
17						
18						
19						
20						
21						
22						
23						
24						
25						
26						
27						
28						
29						
30						
31						
32						
33						
34						
35						
36						
37						
38						

< huseyin.ogretmenn



Hüseyin ÖZTÜRK

334
gönderi

50,4B
takipçi

500
takip

Eğitim



Çalışmalarımı beğendiyseniz destek olmak için sayfamı takip etmeyi, beğenmeyi ve kaydetmeyi unutmayınız.



huseyin.ogretmenn



www.huseyinogretmenn.com