

# 1. Sınıflar

## Haftalık Ev Ödevi

### ( 08-12 Haziran )



[@huseyin.ogretmenn](https://www.instagram.com/huseyin.ogretmenn)



[huseyinogretmenn.com](http://huseyinogretmenn.com)

# 5N 1K Soruları

Aşağıdaki cümleleri okuyunuz. Sorularını cümlelere uygun cevaplayınız.

1

Ali marketten süt aldı.

► Kim aldı?

► Ne aldı?

► Nereden aldı?

2

Ayşe fırından ekmek aldı.

► Kim aldı?

► Ne aldı?

► Nereden aldı?

3

Mert kırtasiyeden kalem aldı.

► Kim aldı?

► Ne aldı?

► Nereden aldı?

4

Arda pazardan domates aldı.

► Kim aldı?

► Ne aldı?

► Nereden aldı?

5

Ece pastaneden pasta aldı.

► Kim aldı?

► Ne aldı?

► Nereden aldı?

6

Deniz çiçekçiden çiçek aldı.

► Kim aldı?

► Ne aldı?

► Nereden aldı?

# Veriye Dayalı Araştırma

Sınıfımızda en sevilen dondurma çeşidini öğrenmek için bir anket yaptık. Ankete katılan 20 arkadaşımızdan aldığımız bilgiler aşağıdadır.



Sıklık Tablosu

Çetele Tablosu

Tablo Adı: En sevilen dondurmalar

Dondurma Çeşitleri	Sayısı
Çilekli	
Kakaolu	
Vanilyalı	

Tablo Adı: En sevilen dondurmalar

Dondurma Çeşitleri	Sayısı
Çilekli	
Kakaolu	
Vanilyalı	

Sınıfımızda en çok sevilen dondurma çeşidi hangisidir?

Sınıfımızda en az sevilen dondurma çeşidi hangisidir?

Çilekli sevenlerin sayısı vanilya sevenlerden kaç fazladır?

# Tekerleme

Aşağıdaki tekerlemeleri ezberleyelim. İlgili sorularını cevaplayıp, defterimize yazalım.


Minik tavşan hopladı,  
Bahçelerde zıpladı.  
“Kıpır kıpır” dolaştı,  
Yeşil çimleri aştı.  
Bir havuç buldu yerde,  
Yedi onu neşeyle.



1-Nerelerde zıpladı?

2-Yerde ne buldu?

Küçük ördek gölde yüzdü,  
Kanatlarını düzdü.  
“Vak vak vak” diye seslendi,  
Suyun üstünde eğlendi.  
Bir balık gördü uzakta,  
Bakakaldı merakla.




1-Ördek nerede yüzdü?

2-Uzakta ne gördü?

# Veriye Dayalı Araştırma

Aşağıdaki nesne grafiğinde sınıfta en çok sevilen evcil hayvanlar gösterilmiştir. Her görsel bir öğrenciyi temsil eder. Sıklık ve çetele tablolarında sayılarını belirtiniz.



Sıklık Tablosu

Tablo Adı: Sevilen Evcil Hayvanlar

Evcil Hayvan	Sayısı
Kedi	
Köpek	
Balık	
Kuş	

Çetele Tablosu

Tablo Adı: Sevilen Evcil Hayvanlar

Evcil Hayvan	Sayısı

Sınıfımızda en çok sevilen evcil hayvan hangisidir?

Sınıfımızda en az sevilen evcil hayvan hangisidir?

Balık sevenlerin sayısı kaçtır?

## Şiir Çalışması

Aşağıdaki şiiri 5 defa okuyup çizgili defterimize yazalım. Ardından sorularını çözüp, boyayalım.

### Hayvan Dostlarımız

Hayvanlar dostumuzdur,

Doğayı çok severler.

Kimi uçar göklerde,

Kimi koşar yerlerde.

Kedi, köpek, kuş, tavşan,

Hepsi ayrı bir can.

Onları koruyalım,

Sevgiyle yaklaşalım.

### SORULAR:

1-Hayvanlar neyi sever?

- Doğayı
- Yemekleri
- Koşmayı




2-Şiirde hangi hayvanlar geçiyor?

3-Hayvanlara nasıl yaklaşmalıyız?



# Veriye Dayalı Araştırma

Ali'nin pazardan aldığı sebzeler aşağıda gösterilmiştir. Ali'nin hangi sebzelerden kaç tane aldığını aşağıdaki tablolarda gösterelim.



Sıklık Tablosu

Tablo Adı: Pazardan Alınan Sebzeler

Sebze Adları	Sayısı
salatalık	
patates	
patlıcan	
biber	

Çetele Tablosu

Tablo Adı: Pazardan Alınan Sebzeler

Sebze Adları	Sayısı

Pazardan en çok hangi sebze alınmıştır?

Pazardan en az hangi sebze alınmıştır?

Pazardan alınan patateslerin sayısı kaçtır?

# Metin Okuma

Aşağıdaki metni 3 defa okuyunuz. Türkçe defterlerinize yazınız.

## Hayvanat Bahçesi

Zeynep, ailesiyle birlikte hayvanat bahçesine gitti. Orada maymunlar, zürafalar, filler ve penguenler vardı. Zeynep maymunları dikkatle izledi. Zürafaların uzun boyunlarına şaşırdı. Fillerin hortumlarıyla su püskürttüğünü gördü. Penguenler ise sevimli yürüyüşleriyle onu güldürdü. Zeynep hayvanat bahçesinde çok güzel vakit geçirdi.


1-Zeynep nereye gitti?

- Hayvanat Bahçesi
- Okula
- Parka

2-Zeynep neye şaşırdı?

- Fillerin hortumuna
- Zürafaların boyunlarına
- Penguenlerin yürüyüşlerine

3-Hangi hayvanlar vardı?



# Veriye Dayalı Araştırma

Aşağıdaki çetele tablolarına göre bilgileri doldurunuz.

**Tablo Adı:** Sınıfımızdaki sevilen meyveler

elma	
armut	
çilek	
muz	

En çok sevilen meyve hangisidir?

En az sevilen meyve hangisidir?

Armutların sayısı kaçtır?

**Tablo Adı:** Sınıfımızdaki sevilen oyuncaklar

araba	
uçak	
ayıcık	
tren	

En çok sevilen oyuncak hangisidir?

En az sevilen oyuncak hangisidir?

Oyuncak uçak sevenlerin sayısı kaçtır?

< huseyin.ogretmenn



Hüseyin ÖZTÜRK

386  
gönderi

52,2B  
takipçi

542  
takip

Eğitim



Çalışmalarımı beğendiyseniz destek  
olmak için sayfamı takip etmeyi,  
beğenmeyi ve kaydetmeyi unutmayınız.



huseyin.ogretmenn



www.huseyinogretmenn.com