

2. Sınıflar

Hafta Sonu Ev Ödevi

(1-3 Mayıs)



[@huseyin.ogretmenn](https://www.instagram.com/huseyin.ogretmenn)



[huseyinogretmenn.com](https://www.huseyinogretmenn.com)

Türkçe- Metin Çalışması

Aşağıdaki metni 3 defa okuyunuz. Sorularını cevaplayıp Türkçe defterinize yazınız.

İşçiler Bayramı

İşçi Bayramı geldiğinde birçok insan büyük bir heyecan yaşar. Bu özel gün, çalışanların emeklerini hatırlamak ve onların değerini anlamak için kutlanır. İşçi Bayramı, her yıl 1 Mayıs'ta kutlanır. Bu gün, işçilerin haklarını korumak ve daha iyi şartlarda çalışabilmeleri için önemlidir. Emek, insanların çalışarak ortaya koyduğu çaba demektir. Toplumun gelişmesinde işçilerin emeği çok büyüktür.

1 Mayıs'ta insanlar bir araya gelir, kutlamalar yapılır. Meydanlar bayraklarla süslenir ve şarkılar söylenir. İşçiler bu günde dinlenir ve birlikte vakit geçirir. Bazı yerlerde yürüyüşler yapılır ve konuşmalar yapılır. Bu sayede insanların hakları ve emeğin önemi daha iyi anlaşılır. İşçi Bayramı, birlik ve dayanışmanın önemini hatırlatan anlamlı bir gündür.

Aşağıdaki soruları yukarıdaki metne göre cevaplayınız. Ardından boyamayı tamamlayınız.

1-İşçi Bayramı ne zaman kutlanır?

.....

2-İşçi Bayramı neden kutlanır?

.....

3-3. Emek ne demektir?

.....



Genel Tekrar Çalışmaları

➤ Aşağıdaki cümlelerde uygun noktalama işaretlerini koyunuz.

✦ Damla'nın kitabı yeşildir ()

✦ Sınıfta kaç kişi var ()

✦ Kalem() silgi()defter çantamdadır.

✦ Hemen buraya gel ()

✦ () Kapıyı kapatır mısın dedi.

✦ Karpuz()kavun() üzüm aldık.

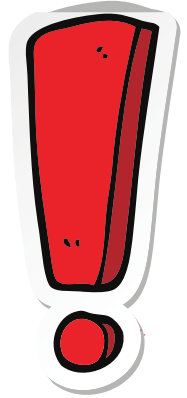
✦ Mert()in kitabı nerede ()

✦ Ne güzel bir resim yapmışsın ()

✦ Öğretmen ()Sessiz olun ()dedi.

✦ Yarın pikniğe gidecek miyiz ()

✦ Ece()nin oyuncacı kırıldı ()



Türkçe - Şiir Çalışması

Aşağıdaki şiiri 5 defa okuyunuz soruları çözüp Türkçe derfterlerinize yazınız.

İşçiler Bayramı

Emek veren eller var,
Her gün çalışan insanlar.
Alın teriyle kazanır,
Hayatımıza değer katar.

Birlik olur herkes bugün,
Sevinç dolu olur her gün.
İşçiler Bayramı kutlu,
Emekçiler mutlu olsun.

Aşağıdaki soruları yukarıdaki şiire göre cevaplayınız.

1-Şiirde kaç kıta ve kaç dize vardır?

.....

2- Şiirin konusu nedir?

.....

3-Şiire göre işçiler hayatımıza ne katar?

.....

4-'Emek' kelimesini araştır.

.....



Zamanı Ölçme

Aşağıda okunuşları verilen saatleri dolduralım.



► Saat tam sekiz.



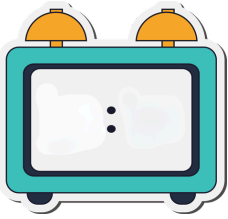
► Saat tam dokuz.



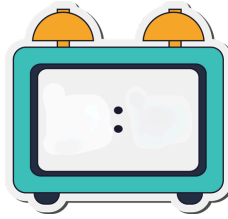
► Saat altı buçuk.



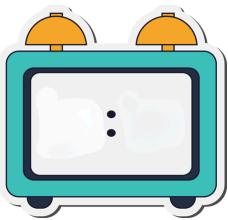
► Saat on buçuk.



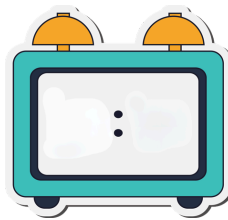
► Saat dördü çeyrek geçiyor.



► Saat biri çeyrek geçiyor.



► Saat ona çeyrek var.



► Saat ikiye çeyrek var.

Zamanı Ölçme

Aşağıdaki soruları yandaki takvime göre cevaplayınız.

NİSAN 2026						
pts	sal	çar	per	cum	cmt	paz
		1	2	3	4	5
6	7	8	9	10	11	12
13	14	15	16	17	18	19
20	21	22	23	24	25	26
27	28	29	30			

1. Nisan ayı yılın kaçınıcı

- ikinci ayıdır.
 üçüncü ayıdır.
 dördüncü ayıdır.

2- Nisan ayı kaç gün çeker?

- 28 gün
 30 gün
 32 gün

3-23 Nisan hangi gündür?

- Perşembe
 Cuma
 Cumartesi

4-20 Nisan hangi gündür?

- Pazar
 Pazartesi
 Salı

5-Nisan ayında kaç hafta sonu vardır?

- 3
 4
 5

6- Nisan ayı hangi mevsimde yer alır?

- İlkbahar
 Yaz
 Sonbahar

Zamanı Ölçme

Aşağıdaki işlemleri yapınız.



+

$$\begin{array}{r} 20 \\ + 32 \\ \hline \end{array}$$

$$\begin{array}{r} 45 \\ + 18 \\ \hline \end{array}$$

$$\begin{array}{r} 54 \\ + 26 \\ \hline \end{array}$$

$$\begin{array}{r} 19 \\ + 18 \\ \hline \end{array}$$

$$\begin{array}{r} 32 \\ + 48 \\ \hline \end{array}$$



-

$$\begin{array}{r} 56 \\ - 34 \\ \hline \end{array}$$

$$\begin{array}{r} 60 \\ - 37 \\ \hline \end{array}$$

$$\begin{array}{r} 68 \\ - 29 \\ \hline \end{array}$$

$$\begin{array}{r} 22 \\ - 18 \\ \hline \end{array}$$

$$\begin{array}{r} 74 \\ - 38 \\ \hline \end{array}$$



×

$$\begin{array}{r} 4 \\ \times 2 \\ \hline \end{array}$$

$$\begin{array}{r} 6 \\ \times 3 \\ \hline \end{array}$$

$$\begin{array}{r} 3 \\ \times 4 \\ \hline \end{array}$$

$$\begin{array}{r} 6 \\ \times 5 \\ \hline \end{array}$$

$$\begin{array}{r} 9 \\ \times 5 \\ \hline \end{array}$$



÷

$$\begin{array}{r} 8 \overline{) 2} \\ - \\ \hline \end{array}$$

$$\begin{array}{r} 27 \overline{) 3} \\ - \\ \hline \end{array}$$

$$\begin{array}{r} 36 \overline{) 4} \\ - \\ \hline \end{array}$$

$$\begin{array}{r} 40 \overline{) 5} \\ - \\ \hline \end{array}$$

$$\begin{array}{r} 24 \overline{) 4} \\ - \\ \hline \end{array}$$



< huseyin.ogretmenn



Hüseyin ÖZTÜRK

334
gönderi

50,4B
takipçi

500
takip

Eğitim



Çalışmalarımı beğendiyseniz destek olmak için sayfamı takip etmeyi, beğenmeyi ve kaydetmeyi unutmayınız.



huseyin.ogretmenn



www.huseyinogretmenn.com