

# 2. Sınıflar

## Hafta Sonu Ev Ödevi (16-17 Mayıs)



[@huseyin.ogretmenn](https://www.instagram.com/huseyin.ogretmenn)



[huseyinogretmenn.com](http://huseyinogretmenn.com)

# Türkçe- Metin Çalışması

Aşağıdaki metni 3 defa okuyunuz. Sorularını cevaplayıp Türkçe defterinize yazınız.

## 19 Mayıs Coşkusu

19 Mayıs Atatürk'ü Anma, Gençlik ve Spor Bayramı, ülkemiz için çok önemli bir gündür. Her yıl 19 Mayıs'ta büyük bir coşkuyla kutlanır. Bu özel gün, Mustafa Kemal Atatürk'ün Samsun'a çıkarak Kurtuluş Mücadelesi'ni başlattığı günü hatırlatır. Atatürk, bu anlamlı bayramı gençlere armağan etmiştir. Çünkü gençlerin ülkemizin geleceği olduğuna inanmıştır.

19 Mayıs geldiğinde okullarda törenler yapılır ve öğrenciler şiirler okur. Bayraklar sınıfları ve sokakları süsler. Bazı öğrenciler spor gösterileri hazırlar, bazıları ise marşlar söyler. İnsanlar büyük bir gurur ve heyecan yaşar. Bu özel gün, birlik ve beraberliğin önemini hatırlatır. Hepimiz Atatürk'ü sevgi ve saygıyla anarız.

Aşağıdaki soruları yukarıdaki metne göre cevaplayınız. Ardından boyamayı tamamlayınız.

1-19 Mayıs hangi bayram olarak kutlanır?

2- 19 Mayıs'ta hangi şehre çıkmıştır?

3-19 Mayıs bize neyi hatırlatır?



## Dil Bilgisi Tekrar Çalışması

➤ Aşağıdaki cümleleri büyük harfleri doğru kullanarak yeniden yazınız.

➤ ahmet bugün okula geç kaldı.



➤ biz pazar günü ankara'ya gideceğiz.



➤ elif ve melis izmir'de yaşıyor.



➤ cumhuriyet bayramı ekim ayında kutlanır.



➤ biz 19 mayıs törenine katıldık.



➤ pazartesi günü öğretmenimiz bize hikâye okudu.



# Türkçe - Şiir Çalışması

Aşağıdaki şiiri 5 defa okuyunuz soruları çözüp Türkçe derfterlerinize yazınız.

**19 MAYIS**

On dokuz Mayıs geldi,  
Bayraklarla süslendi.  
Çocuklar şarkı söylüyor,  
Her yere neşe doluyor.

Mustafa Kemal Atatürk  
Gençlere armağan etti.  
Bu güzel bayramımızı,  
Sevgiyle kutlarız biz.


Aşağıdaki soruları yukarıdaki şiire göre cevaplayınız.

1-Şiirde hangi bayramdan söz edilmektedir?

2-19 Mayıs geldiğinde etraf nasıl süslenmiştir?

3-Çocuklar şiirde ne söylüyor?

4-Şiirin başlığı nedir?



# Uzunluk Ölçme

Aşağıdaki nesnelere ölçünüz. Soruları cevaplayınız.



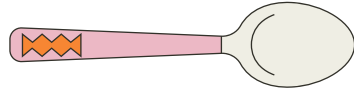
..... cm



..... cm



..... cm



..... cm

Aşağıdaki soruları yukarıdaki bilgilere göre doğruysa "D", yanlışsa "Y" yazınız.

**Tokanın uzunluğu kaşıktan daha kısadır.**

**Kalemin uzunluğu 20 cm'dir.**

**3 tane kaşığın uzunluğu 27 cm'dir**

**4 tane tokanın uzunluğu 26 cm'dir.**

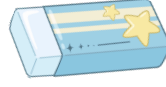
**Çiçeğin uzunluğu, tokanın uzunluğundan 8 fazladır.**

# Uzunluk Ölçme Problemleri

Aşağıdaki problemleri yukarıdaki bilgilere göre çözünüz.



4 cm




3 cm



5 cm


1

Ali 12 santimetre olan kitabın uzunluğunu silgi ile ölçmek istiyor. Kitabın uzunluğu kaç silgi eder?




2

Esra bir nesnenin uzunluğunu 5 kaşıkla kaç cm ölçmüş olur?



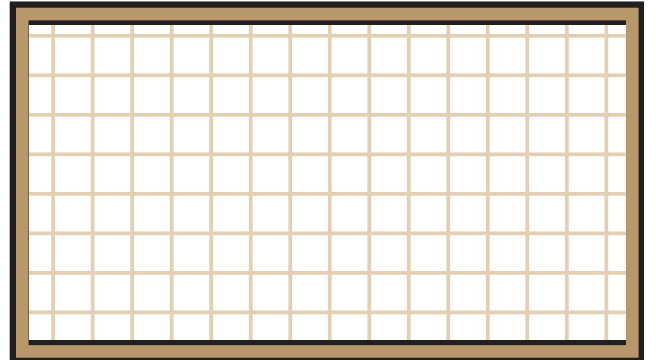
3

2 tane kaşık ile 3 tane silginin uzunluğu toplam kaç cm'dir?





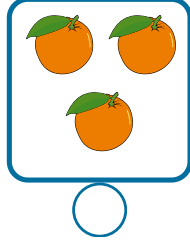

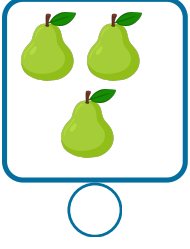
4

3 tane kalem ile 4 kaşığın uzunluğu toplam kaç cm'dir?



# Tartma-Ağırlık

► Aşağıdaki görsellerden kg ile satılanları işaretleyiniz.




► Aşağıdaki soruları verilenlere göre cevaplayınız.



8 kg



2 kg



1 kg



4 kg

2 tane karpuzun ağırlığı kaç kg'dır?

4 tane elma 1 kg ise 8 tane elma kaç kg'dır?

2 tane kavun ile 2 tane çaydanlık kaç kg'dır?

3 tane karpuzun ağırlığı kaç kg'dır?

1 tane karpuz ile 2 tane kavunun ağırlığı kaç kg'dır?

Yukarıdaki görsellerde toplam kaç kg vardır?

6 tane kavunun ağırlığı kaç kg'dır?

# Dört İşlem Genel Tekrar

Aşağıdaki işlemleri yapınız.

$$\begin{array}{r} 12 \\ + 14 \\ \hline \end{array}$$

$$\begin{array}{r} 45 \\ - 23 \\ \hline \end{array}$$

$$\begin{array}{r} 4 \\ \times 3 \\ \hline \end{array}$$

$$\begin{array}{r} 12 \phantom{0} \\ \phantom{0} 3 \\ \hline \end{array}$$

$$\begin{array}{r} 37 \\ + 25 \\ \hline \end{array}$$

$$\begin{array}{r} 54 \\ - 26 \\ \hline \end{array}$$

$$\begin{array}{r} 6 \\ \times 2 \\ \hline \end{array}$$

$$\begin{array}{r} 16 \phantom{0} \\ \phantom{0} 2 \\ \hline \end{array}$$

$$\begin{array}{r} 35 \\ + 35 \\ \hline \end{array}$$

$$\begin{array}{r} 66 \\ - 29 \\ \hline \end{array}$$

$$\begin{array}{r} 4 \\ \times 5 \\ \hline \end{array}$$

$$\begin{array}{r} 18 \phantom{0} \\ \phantom{0} 2 \\ \hline \end{array}$$

$$\begin{array}{r} 56 \\ + 26 \\ \hline \end{array}$$

$$\begin{array}{r} 43 \\ - 27 \\ \hline \end{array}$$

$$\begin{array}{r} 8 \\ \times 4 \\ \hline \end{array}$$

$$\begin{array}{r} 35 \phantom{0} \\ \phantom{0} 5 \\ \hline \end{array}$$

< huseyin.ogretmenn



Hüseyin ÖZTÜRK

386  
gönderi

52,2B  
takipçi

542  
takip

Eğitim



Çalışmalarımı beğendiyseniz destek  
olmak için sayfamı takip etmeyi,  
beğenmeyi ve kaydetmeyi unutmayınız.



huseyin.ogretmenn



www.huseyinogretmenn.com