

2. Sınıf







Paralarımız

Problemleri



Paralarımız

Aşağıda oyuncakların fiyatları listelenmiştir.

					
22 TL	33 TL	29 TL	35 TL	32 TL	49 TL

1- Ayıcık ve top alan bir çocuk toplam kaç TL öder?

2- Oyuncak araba alan Ali, 50 TL verirse para üstü ne kadar alır?

3- Elif'in 30 TL'si vardır. Robot almak istiyor. Kaç TL'ye ihtiyacı vardır?


4- Oyuncak tavşan ve top alan biri toplam kaç TL öder?

Paralarımız


Aşağıda kırtasiye ürünlerinin fiyatları listelenmiştir.

					
25 TL	23 TL	54 TL	25 TL	15 TL	12 TL

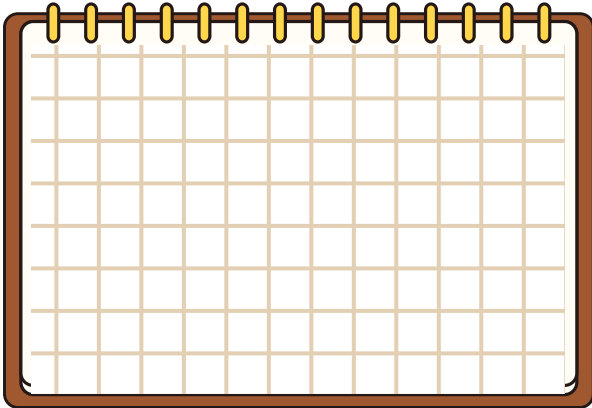
1-Makas ve kalemlik alan bir çocuk toplam kaç TL öder?



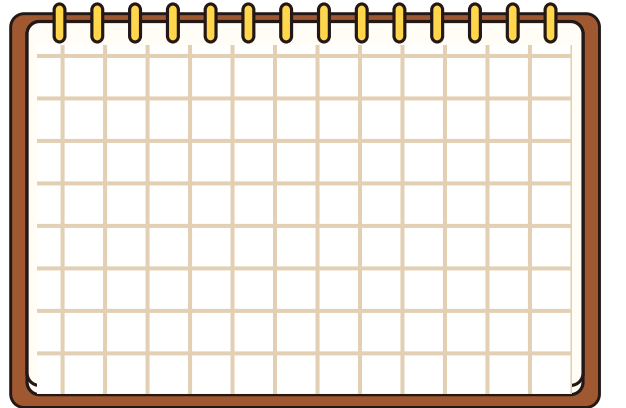
2-Ömer 50 TL ile iki tane ürün almak istiyor. Hangilerini alabilir?



3-Mert Efe bir kalem alıp adama 20 TL verirse, kaç TL para üstünü alır?

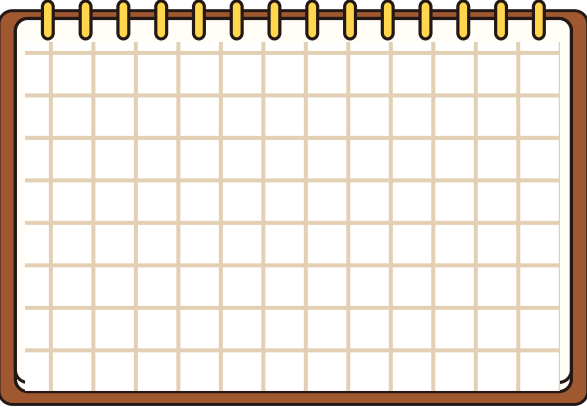


4-Çanta ile silgi alan bir çocuk, toplam kaç TL öder?

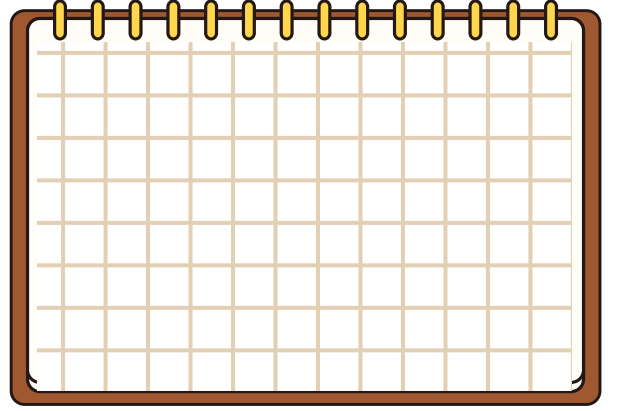


Paralarımız

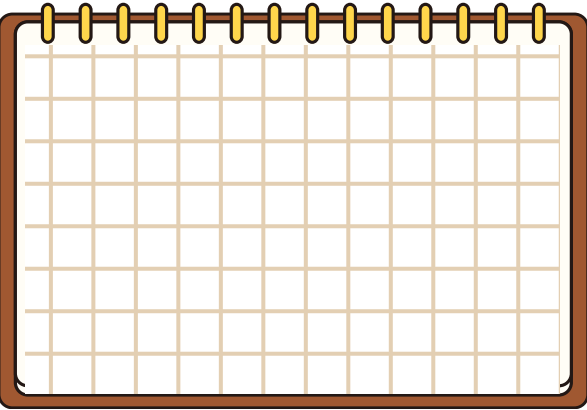
1-Ali'nin 38 TL'si vardı. Babası ona 12 TL daha verdi. Toplam kaç TL olur?



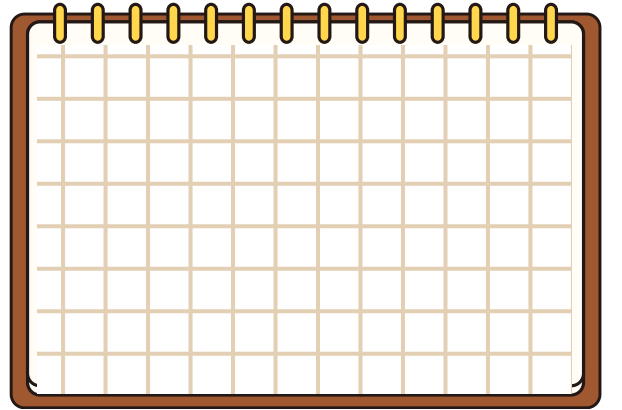
2-Bir öğrenci kantinden 17 TL'ye tost alıp 20 TL vermiştir. Para üstü ne kadar alır?



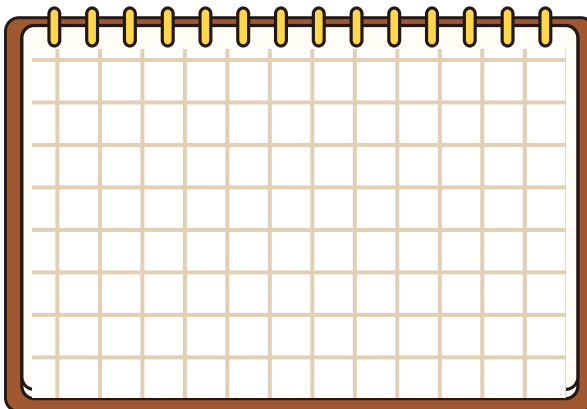
3-Ayşe 30 TL ile alışverişe çıktı. 23 TL harcadı. Kaç TL'si kaldı?



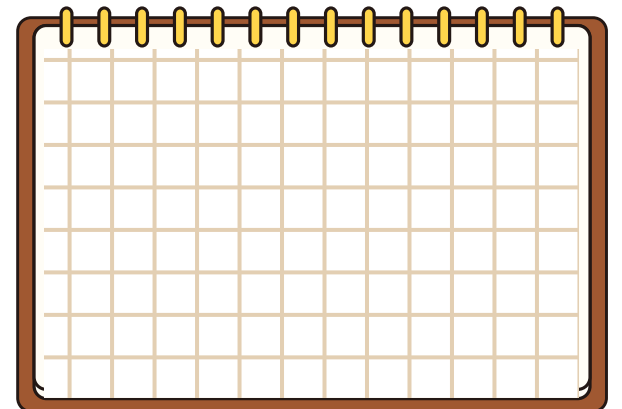
4- Şevket'in 27 TL'si vardı. Annesi ona 13 TL verdi. Kaç TL olur?



5-Bilal 75 TL ile markete girdi. 25 TL harcarsa kaç TL'si kalır?



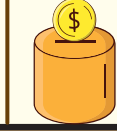
6-Aslı'nın 28 TL'si vardı. Babası ona 22 TL daha verirse kaç TL'si olur?



Paralarımız

1

Kumbaramda 1 tane 20 TL, 2 tane de 10 TL var. Kumbaramda toplam kaç TL vardır?



verilenler

istenenler

çözüm

2

Fiyatı 15 TL olan bir boyama kitabı ile 5 TL olan bir kalem aldım. Satıcıya kaç TL ödemem gerekir?



verilenler

istenenler

çözüm

3

Tanesi 8 TL olan bir çikolatadan aldım. Satıcıya 20 TL verdim. Kaç TL para üstü almalıyım?



verilenler

istenenler

çözüm

4

Cebimde 50 TL param var. Tanesi 10 TL olan dondurmalar-
dan 3 tane alırsam geriye kaç TL'm kalır?



verilenler

istenenler

çözüm

5

Tanesi 50 kuruş olan sakızlardan 4 tane aldım. Toplam kaç lira ederim?



verilenler

istenenler

çözüm

Paralarımız

1

Kumbaramdan 2 tane 20 TL, 3 tane de 5 TL çıktı. Kumbaramda toplam kaç TL birikmiş?



verilenler

istenenler

çözüm

2

Tanesi 20 TL olan simitlerden 4 tane aldım. Satıcıya 100 TL verdim. Kaç TL para üstü almam gerekir?



verilenler

istenenler

çözüm

3

Cebimde 80 TL param vardı. 35 TL'ye bir oyuncak araba aldım. Geriye kaç TL param kaldı?



verilenler

istenenler

çözüm

4

Annem bana 20 TL, babam ise 25 TL harçlık verdi. Harçlıklarımın toplamı ile 50 TL olan bir kitabı alabilir miyim?



verilenler

istenenler

çözüm

5

Tanesi 25 kuruş olan boncuklardan 4 tane aldım. Satıcıya toplam kaç TL ödemem gerekir?



verilenler

istenenler

çözüm

< huseyin.ogretmenn



Hüseyin ÖZTÜRK

334
gönderi

50,4B
takipçi

500
takip

Eğitim



Çalışmalarımı beğendiyseniz destek olmak için sayfamı takip etmeyi, beğenmeyi ve kaydetmeyi unutmayınız.



huseyin.ogretmenn



www.huseyinogretmenn.com