

2. SINIF

PARALARIMIZ



 @huseyin.ogretmenn



 @huseyin.ogretmenn

PARALARIMIZ

- * Ülkemizde kullandığımız paralar **Türk Lirası**'dir.
- * Madeni ve kâğıt paralarımız vardır.
- * Türk lirası "**TL**" şeklinde kısaltılır.
- * Türk lirası "**₺**" sembolüyle gösterilir.

1-Madeni Paralarımız:



- * Paralarımızın değeri 1 TL'den küçükse **kuruş** diyoruz.
- * Kuruşu kısaca '**kr.**' ile gösterilir.

2-Kağıt Paralarımız:



5 Türk Lirası



10 Türk Lirası



20 Türk Lirası



50 Türk Lirası



100 Türk Lirası



200 Türk Lirası

Defter Etkinliđi



Defter Etkinliđi



5 Türk Lirası



5 Türk Lirası



10 Türk Lirası



10 Türk Lirası



20 Türk Lirası



20 Türk Lirası



50 Türk Lirası



50 Türk Lirası



100 Türk Lirası



100 Türk Lirası





200 Türk Lirası



200 Türk Lirası


Paralarımız

➤ Aşağıdaki paraların miktarlarını sayıp altlarına yazalım.



Paralarımız

- Aşağıda çerçeveler içinde paralar verilmiştir. Para değerlerini bulunuz. Aynı değerdeki paraları örnekteki gibi eşleştiriniz.



Paralarımız

- Aşağıda Mert Efe'nin kumbarasından çıkan paralar gösterilmiştir. Buna göre soruların cevaplarını örnekteki gibi noktalı yerlere yazınız.



1. Mert Efe'nin kumbarasında tane 25 kuruş vardır.
2. Mert Efe'nin kumbarasında tane 5 TL vardır.
3. Mert Efe'nin kumbarasında TL madeni para vardır.
4. Mert Efe'nin kumbarasında tane 20 TL vardır.
5. Mert Efe'nin kumbarasında tane 200 TL vardır.
6. Mert Efe'nin kumbarasında tane 50 TL vardır.
7. Mert Efe'nin kumbarasında tane 1 TL vardır.

Paralarımız

► Ürünler ve fiyatları aşağıdaki gibidir. Satın alınan ürünlerin fiyatlarını hesaplayalım. Karşlarına yazalım.



(25 ₺)



(34 ₺)



(33 ₺)



(17 ₺)



(20 ₺)



(38 ₺)



(26 ₺)



(32 ₺)



$$\square + \square =$$



$$\square + \square =$$



$$\square + \square =$$



$$\square + \square =$$



$$\square + \square =$$















$$\square + \square =$$



Paralarımız

➤ Aşağıdaki paralarımızı sayalım. Kaç TL olduğunu yanlarına yazalım.

	➔	
	➔	
	➔	
	➔	
	➔	
	➔	

Paralarımız

► Verilen ürünleri hangi paralarla satın alabiliriz? Örnekteki gibi tik atınız.




25 TL



45 TL



11 TL



2 TL



55 TL



30 TL



Paralarımız

➤ Aşağıda verilen kumbaraların içinde bulunan paraların miktarlarını yazalım.





Çalışmalarımı beğendiyseniz destek olmak için sayfamı takip etmeyi, beğenmeyi ve kaydetmeyi unutmayınız.



www.huseyinogretmenn.com