

# 2. Sınıflar

## Hafta Sonu Ev Ödevi

### (7-8 Mart)



[@huseyin.ogretmenn](https://www.instagram.com/huseyin.ogretmenn)



[huseyinogretmenn.com](https://www.huseyinogretmenn.com)

## Türkçe- Metin Çalışması

Aşağıdaki metni 3 defa okuyunuz. Sorularını cevaplayıp Türkçe defterinize yazınız.

### Sabır

Elif için Ramazan ayı bu yıl daha farklıydı. Annesi ona bu ayın sabır ayı olduğunu anlattı. Elif ilk kez yarım gün oruç tutmayı denedi. Öğlene doğru biraz acıktı ama hemen vazgeçmedi. Sabretmenin güçlü olmak anlamına geldiğini düşündü. Gün içinde kimseye kızmamaya ve güzel sözler söylemeye dikkat etti. Akşam ezanını beklerken heyecanlandı ama sakin kalmaya çalıştı. Ezan okununca ailesiyle birlikte iftar yaptı. O gün sabretmenin sadece aç kalmak değil, güzel davranmak olduğunu anladı. Ramazan'ın ona sabrı öğrettiğini fark etti.

Aşağıdaki soruları yukarıdaki metne göre cevaplayınız. Ardından boyamayı tamamlayınız.

#### 1-Elif bu Ramazan neyi öğrendi?


- Sabretmeyi
- Koşmayı
- Şarkı söylemeyi

#### 2-Elif neyi denedi?

- Oyun oynamayı
- Yarım gün oruç tutmayı
- Geç uyumayı

#### 3- Elif akşam ne yaptı?

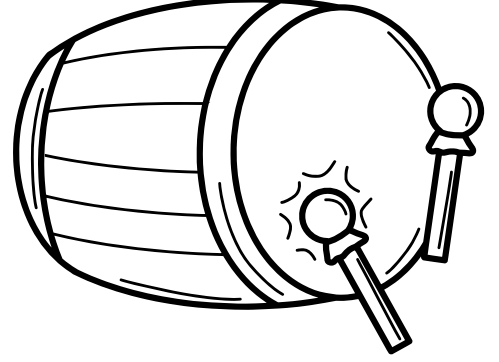
.....



# Ramazan Manileri

Aşağıdaki Ramazan manilerini ezberleyiniz. Ezberlediğiniz manileri Türkçe defterlerinize yazınız.


Ramazan geldi hoş geldi,  
Gönlümüze nur geldi.  
Sevgi doldu her yana,  
Mutluluk kondu her ana.



Soframızda bereket,  
Gönlümüzde merhamet.  
Ramazan ayı deyince,  
Artar bizde muhabbet.



Işık yanar minarede,  
Sevinç vardır her yerde.  
Ramazan ayı gelince,  
Barış olur ülkede.




# Türkçe - Şiir Çalışması

Aşağıdaki şiiri 5 defa okuyunuz soruları çözüp yapıp yanına yeniden yazınız.

## Rahmet Ayı

Sessizce iner geceye huzur,  
Kalplerde başlar tatlı bir nur.  
Birlik olur küçük büyük,  
Sevgi büyür gün be gün.

Kapılar çalar iyilikle,  
Paylaşılır lokma gülerek.  
Dualar yükselir göğe doğru,  
Kalpler olur sevgi dolu.



Two hanging lanterns are positioned at the top of a large rectangular box with rounded corners. The box contains several horizontal lines for writing, intended for the student to practice writing the poem again.

Aşağıdaki soruları yukarıdaki şiire göre cevaplayınız.

1- Şiirin başlığını yazar mısın?

.....

2-Şiirde kaç dize vardır?

.....

3-Şiirde kaç kıta vardır?

.....

4-Şiire göre kalplerde ne başlar?

.....

5-Lokmalar nasıl paylaşılır?

Ağlayarak

Gülerek

Uyuyarak



6-Dualar nereye doğru yükselir?

Göğe

Uzaya

Camiye

# Matematik-Bölme İşlemi

Aşağıdaki bölme işlemini inceleyiniz. Diğer bölme işlemlerini örnekteki gibi yapınız.

$$\begin{array}{r} 6 \ 2 \\ 6 \ 3 \\ - \\ 0 \end{array}$$



Parmaklarınızı kapatınız. İkişer ileriye ritmik sayarak 6 sayısına gelene kadar kaç parmak açıysak bölüm sayısına sayısını giriniz.

3.6 🙌

$$\begin{array}{r} 6 \ 3 \\ 6 \ 2 \\ - \\ 0 \end{array}$$

$$\begin{array}{r} 4 \ 2 \\ - \end{array}$$

$$\begin{array}{r} 6 \ 3 \\ - \end{array}$$

$$\begin{array}{r} 10 \ 5 \\ - \end{array}$$

$$\begin{array}{r} 12 \ 3 \\ - \end{array}$$

$$\begin{array}{r} 12 \ 4 \\ - \end{array}$$

$$\begin{array}{r} 16 \ 2 \\ - \end{array}$$

$$\begin{array}{r} 18 \ 3 \\ - \end{array}$$

$$\begin{array}{r} 24 \ 4 \\ - \end{array}$$

# Matematik-Bölme İşlemi

Aşağıdaki bölme işlemlerini yapınız.

$$\begin{array}{r} 2 \overline{) 2} \\ \underline{\phantom{00}} \\ \phantom{00} \end{array}$$

$$\begin{array}{r} 6 \overline{) 2} \\ \underline{\phantom{00}} \\ \phantom{00} \end{array}$$

$$\begin{array}{r} 9 \overline{) 3} \\ \underline{\phantom{00}} \\ \phantom{00} \end{array}$$

$$\begin{array}{r} 5 \overline{) 5} \\ \underline{\phantom{00}} \\ \phantom{00} \end{array}$$

$$\begin{array}{r} 4 \overline{) 4} \\ \underline{\phantom{00}} \\ \phantom{00} \end{array}$$

$$\begin{array}{r} 3 \overline{) 3} \\ \underline{\phantom{00}} \\ \phantom{00} \end{array}$$

$$\begin{array}{r} 12 \overline{) 3} \\ \underline{\phantom{00}} \\ \phantom{00} \end{array}$$

$$\begin{array}{r} 15 \overline{) 5} \\ \underline{\phantom{00}} \\ \phantom{00} \end{array}$$

$$\begin{array}{r} 21 \overline{) 3} \\ \underline{\phantom{00}} \\ \phantom{00} \end{array}$$

$$\begin{array}{r} 27 \overline{) 3} \\ \underline{\phantom{00}} \\ \phantom{00} \end{array}$$

$$\begin{array}{r} 36 \overline{) 4} \\ \underline{\phantom{00}} \\ \phantom{00} \end{array}$$

$$\begin{array}{r} 45 \overline{) 5} \\ \underline{\phantom{00}} \\ \phantom{00} \end{array}$$

# Matematik-Bölme İşlemi

Aşağıdaki bölme işlemlerini yapınız.



$$2 \div 1 =$$



$$3 \div 1 =$$



$$4 \div 1 =$$



$$4 \div 4 =$$



$$5 \div 5 =$$



$$3 \div 3 =$$



$$6 \div 3 =$$



$$8 \div 2 =$$



$$10 \div 2 =$$



$$12 \div 2 =$$



$$12 \div 3 =$$



$$12 \div 4 =$$



$$15 \div 3 =$$




$$15 \div 5 =$$



$$16 \div 4 =$$



# Kadınlar Günü



< huseyin.ogretmenn

Hüseyin ÖZTÜRK

283 gönderi 47,3B takipçi 518 takip

Eğitim



Çalışmalarımı beğendiyseniz destek olmak için sayfamı takip etmeyi, beğenmeyi ve kaydetmeyi unutmayınız.



huseyin.ogretmenn



www.huseyinogretmenn.com