

2. Sınıf

Çarpma & Bölme İşlemleri Problemleri

verilenler?

İstenilenler?



@huseyin.ogretmenn



www.huseyinogretmenn.com


Çarpma İşlemi Problemleri



► Aşağıdaki problemleri çözünüz.


6

Bir sınıfta 9 sıra var ve her sırada 2 öğrenci oturuyor. Sınıfta toplam kaç öğrenci var?




7

Bir çiftlikte 9 kuzu vardır her kuzunun 4 ayağı olduğuna göre çiftlikte toplam kaç ayak vardır?





8

Cem, her gün 8 sayfa hikaye okuyor. 5 gün sonra toplam kaç sayfa okumuş olur?




9

Bir markette 8 raf var ve her rafta 5 paket bisküvi var. Toplam kaç paket bisküvi var?



10

Ayşe, her gün 7 adet kurabiye yedi. 4 gün sonra toplam kaç kurabiye yemiş olur?



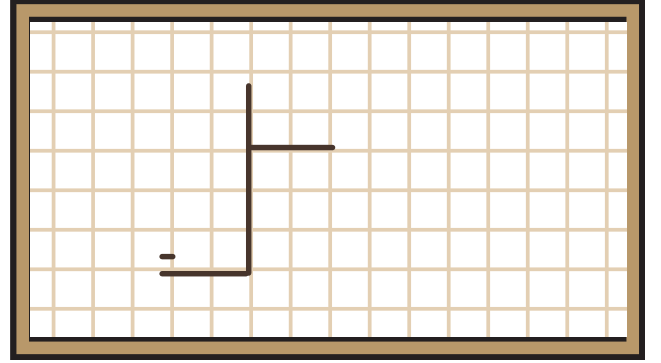
Bölme İşlemi Problemleri



► Aşağıdaki problemleri çözünüz.

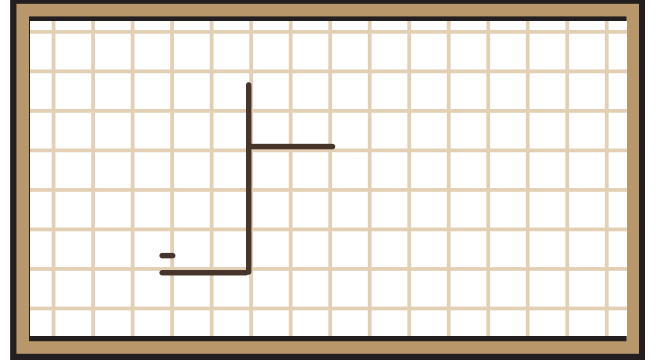
1

12 elma 2 çocuğa eşit dağıtılıyor.
Her çocuk kaç elma alır?



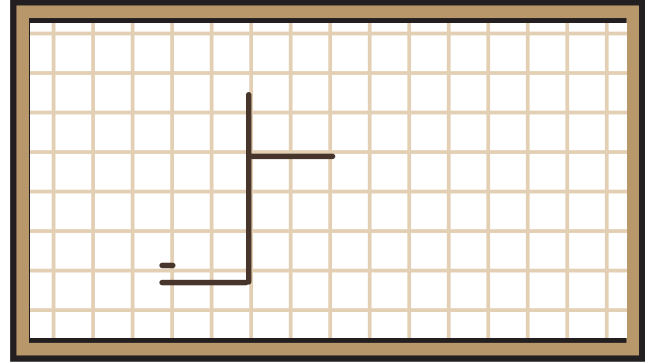
2

18 sayfa kitap 3 güne eşit bölünüyor.
Her gün kaç sayfa okunur?



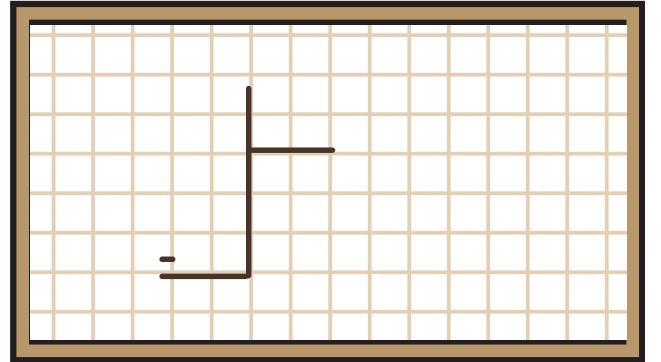
3

25 tane kurabiye 5 arkadaş
arasında eşit paylaşıldı. Her
arkadaş kaç kurabiye alır?



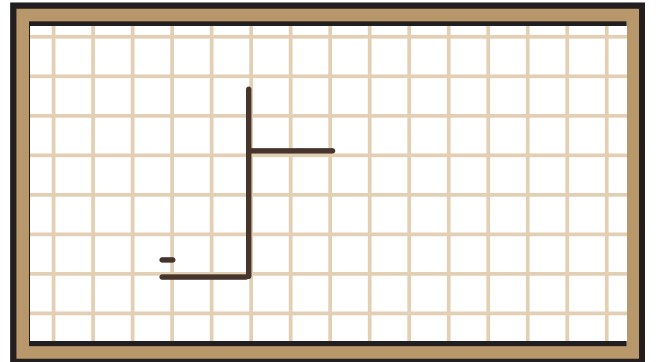
4

36 tane kalem 4 kutuya eşit bir
şekilde konuluyor. Her kutuda
kaç kalem olur?



5

32 sayfalık bir hikaye kitabı 4 gün
boyunca eşit okunuyor. Her gün kaç
sayfa okunur?



Bölme İşlemi Problemleri



► Aşağıdaki problemleri çözünüz.

6

Bir bölme işleminde bölünen 24, ve bölen 4 olduğuna göre bölüm ve kalan kaçtır?



--

7

Bir bölme işleminde bölünen 12, ve bölen 2 olduğuna göre bölüm ve kalan kaçtır?



--

8

Bir bölme işleminde bölünen 18, ve bölen 3 olduğuna göre bölüm ve kalan kaçtır?



--

9

Bir bölme işleminde bölünen 35, ve bölen 5 olduğuna göre bölüm ve kalan kaçtır?



--

10

Bir bölme işleminde bölünen 21, ve bölen 3 olduğuna göre bölüm ve kalan kaçtır?



--

Bölme İşlemi Problemleri



► Aşağıdaki problemleri çözünüz.

16

Yandaki bölme işleminde bir çocuk bölene 2 yazacağına yanlışlıkla 4 yazıp bölümü 4 bulmuştur. Doğrusu kaç olmalıdır?



$$\begin{array}{r} 16 \quad | \quad 4 \\ \underline{16} \quad | \quad 4 \\ 00 \end{array}$$


17

Ali, $20 \div 4$ işleminin sonucunu 4 bulmuştur. Doğru sonuç kaç olmalı?



18

Bir pizzacı 24 tane pizzayı 4 kutuya eşit bir şekilde koymak istiyor. Her kutuda kaç pizza olur?



19

32 tane balon, 4 çocuk arasında eşit bir şekilde paylaşılacaktır. Her çocuk kaç balon alır?



20

Bayramda şeker toplayan 2 arkadaş toplam 18 şekerini paylaşacaklardır. Her birine kaç şeker düşer?





Çalışmalarımı beğendiyseniz destek olmak için sayfamı takip etmeyi, beğenmeyi ve kaydetmeyi unutmayınız.



huseyin.ogretmenn



www.huseyinogretmenn.com