

DOĞAL SAYILAR

* Sayıları yazmak için kullanılan işaretlere **rakam** denir.

0 - 1 - 2 - 3 - 4 - 5 - 6 - 7 - 8 - 9

* Rakamlar sıfırdan başlar dokuzaya kadar devam eder.

* En büyük rakam 9, en küçük rakam ise 0'dır.

* Rakamlar tek basamaktan oluşur ve basamak ismi "birler basamağıdır."

* İki rakamın yan yana gelmesiyle **iki basamaklı sayılar** oluşur.

ETKİNLİK:

• Aşağıdaki doğal sayıların okunuşlarını yazalım.

4 : dört

15 : on beş

49 : kırk dokuz

7 : yedi

26 : yirmi altı

67 : altmış yedi

12 : on iki

32 : otuz iki

86 : seksen altı

• Aşağıdaki doğal sayıların yazılışlarını yazalım.

dokuz : 9

yirmi dört : 24

kırk beş : 45

on üç : 13

yirmi sekiz : 28

elli bir : 51

on yedi : 17


otuz sekiz : 32

yetmiş iki : 72


Nesnelerin Peşinde: Say Ve Eğlen!




Aşağıdaki hayvan, meyve ve sebzeleri sayalım. Noktalı yerlere uygun sayıları yazalım.




.....




.....




.....




.....




.....




.....



.....



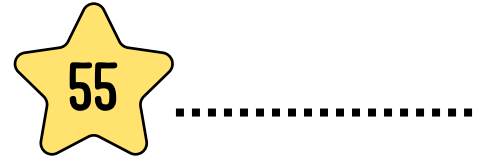

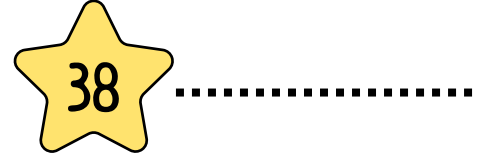
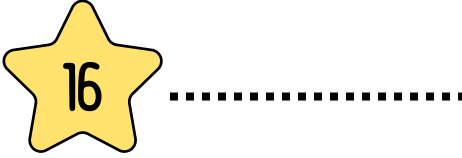



.....



.....

Sayı Macerası: İki Basamağın Gizemi

Aşağıdaki doğal sayıların okunuşlarını yazınız.



Aşağıdaki doğal sayıların yazılışlarını yazınız.

on üç



elli dört



on beş



altmış bir



yirmi iki



seksen üç



otuz yedi



doksan iki



Sayı Macerası: İki Basamağın Gizemi

Aşağıdaki doğal sayıların okunuşlarını yazınız.

7	yedi
12	
19	
28	
35	
41	
48	
56	

3	
57	
63	
74	
88	
91	
96	
99	

Aşağıdaki doğal sayıların yazılışlarını yazınız.

altı	6
dokuz	
on bir	
on dört	
yirmi yedi	
yirmi dokuz	
otuz	
otuz altı	

kırk iki	
elli sekiz	
altmış	
altmış üç	
yetmiş altı	
seksen bir	
doksan	
doksan iki	

Sayı Macerası: 1-100 Sayılar

Aşağıdaki tabloyu okuyarak boşlukları doldurunuz.

1	2	3		5		7		9	10
11	12		14	15			18	19	
21		23	24		26	27			30
	32	33		35	36	37		39	40
		43	44	45		47		49	
51		53	54			57	58		60
	62	63		65	66		68		70
71	72		74	75		77	78		
81	82			85			88		90
91	92			95	96			99	100

En küçük iki basamaklı doğal sayı kaçtır?





.....

En büyük iki basamaklı doğal sayı kaçtır?

.....

Sayı Macerası: 1-100 Sayılar

Aşağıdaki kuşları doğru ağaçlara yerleştirelim. Ardından boyayalım



Aşağıdaki arabaları doğru yerlere park edelim ve boyayalım.



on dört

yirmi iki

otuz beş

altmış bir

doksan