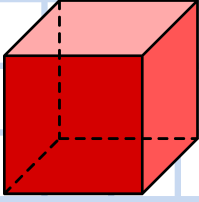


*Köşesi ve kenarı olan cisimlere **köşeli cisimler** denir.

*Köşesi ve kenarı olmayan cisimlere **yuvarlak cisimler** denir.

*Belli geometrik şekillerin bir araya gelmesiyle oluşan üç boyutlu cisimlere **geometrik cisimler** denir.

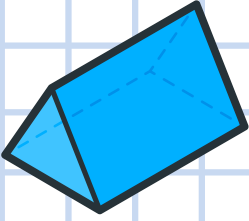
Küp



● 6 yüzü vardır.

● Tüm yüzeyleri karedir.

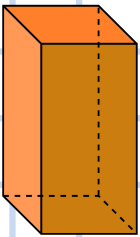
Üçgen Prizma



● 5 yüzü vardır.

● 2 yüzü üçgen, 3 yüzü dikdörtgendir.

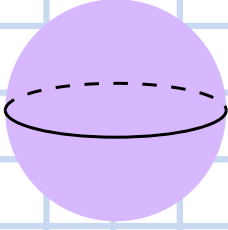
Kare Prizma



● 6 yüzü vardır.

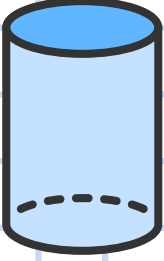
● 2 yüzeyi kare, 4 yüzü dikdörtgendir.

Küre



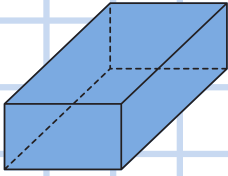
- Bir eğri yüzeyi vardır.

Silindir



- 3 yüzü vardır.
- 2 yüzeyi daire, 1 yüzü dikdörtgen.

Dikdörtgen Prizma



- 6 yüzü vardır.
- Tüm yüzeyleri dikdörtgendir.

Soru: Aşağıdaki geometrik cisimlerin isimlerini yazınız.

