


* Kare, dikdörtgen, üçgen, çember ve daire geometrik şekillerdir.

* Geometrik şekilleri sınırlayan çizgilere kenar denir.

* Kenarların birleştiği noktaya köşe denir.

* Geometrik şekillerde kenar sayısı köşe sayısına eşittir.

Üçgen



● 3 kenarı vardır.

● 3 köşesi vardır.


Kare



● 4 kenarı ve 4 köşesi vardır.

● Tüm kenar uzunlukları eşittir.


Dikdörtgen



● 4 kenarı ve 4 köşesi vardır.

● Karşılıklı kenarları birbirine eşittir.

Çember




- Kenarı ve köşesi yoktur.
- Çemberin içi boştur.

Daire



- Kenarı ve köşesi yoktur.
- Dairenin içi doludur.

Etkinlik: Aşağıdaki resimde üçgen, kare, dikdörtgen ve çember sayılarını bulunuz. Ardından resmi boyayınız.



..... tane üçgen vardır.

..... tane kare vardır.

..... tane çember vardır.

..... tane dikdörtgen vardır.

Defter İin Kes- Yapıştır

