

2. Sınıflar

Hafta Sonu Ev Ödevi

(27-28 Aralık)



 [@huseyin.ogretmenn](https://www.instagram.com/huseyin.ogretmenn)

 t.me/huseyinogretmen

Türkçe- Metin Çalışması

Aşağıdaki metni 3 defa okuyunuz. Sorularını cevaplayıp Türkçe defterinize yazınız.

Tavşanlar

Tavşanlar, doğada yaşayan sevimli hayvanlardır. Yumuşak ve kabarık tüyleri vardır. Uzun kulakları sayesinde çevresindeki sesleri kolayca duyar. Tavşanlar hızlı koşabilir ve yükseğe zıplayabilir. Genellikle sabah erken saatlerde ve akşamları hareket ederler. Otlar, yaprak ve sebzelerle beslenirler. Havuç tavşanların sevdiği besinlerden biridir. Tavşanlar tehlikeyi fark edince hemen kaçmayı tercih eder. Yuvalarını toprağın altına yaparlar. Yavrularına özenle bakarlar. Tavşanlar doğadaki denge için önemlidir.

Aşağıdaki soruları yukarıdaki metne göre cevaplayınız. Ardından boyamayı tamamlayınız.


1-Tavşan nasıl bir hayvandır?

- Sert
- Sevimli
- Tehlikeli

2-Tavşanlar neyle beslenir?

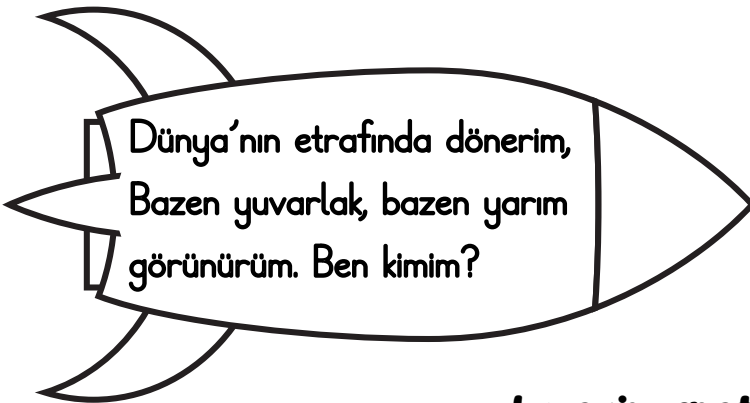

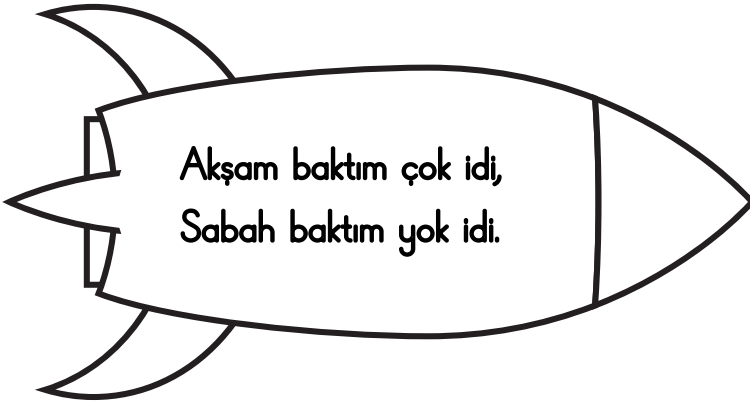
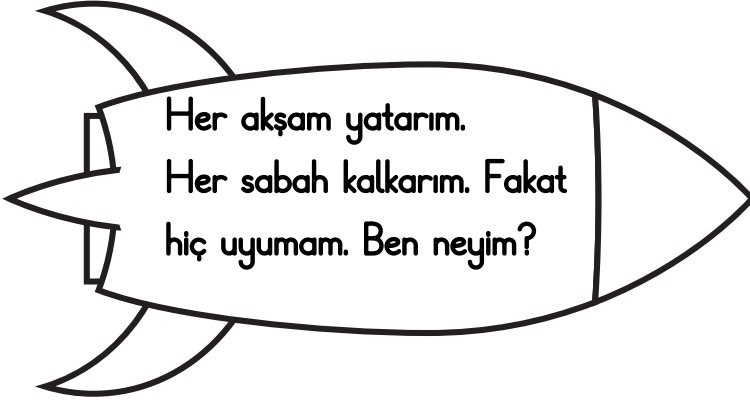
- Balıkla
- Etle
- Otlar ve sebzelerle

3-Tavşanlar neden önemlidir?



Türkçe-Bilmeceler

Aşağıdaki bilmeceleri çözüp eşleştiriniz. Ardından boyayınız.



Türkçe - Şiir Çalışması

Aşağıdaki şiiri 5 defa okuyunuz soruları çözüp yapıp yanına yeniden yazınız.

Gezegener

Güneş'in etrafında döner gezegenler,
Uzayda parıldar büyük düzenler.
Merkür hızlı, Venüs sıcacık,
Dünya mavi, yaşamı tanıdık.

Mars kırmızı, Jüpiter kocaman,
Satürn halkalı, görünür uzaktan.
Uranüs soğuk, Neptün derin mavi,
Büyük bir sır saklıdır bak uzaydan.

Empty lined area for writing answers.

Aşağıdaki soruları yukarıdaki şiire göre cevaplayınız.

1- Şiirin başlığını yazar mısın?

.....

2-Şiirde kaç dize vardır?

.....

3-Şiirde kaç kıta vardır?

.....

4-Şiirde Dünya nasıl anlatılmıştır?

.....

5-Gezegener neyin etrafında döner?

- Ay'ın
 Dünya'nın
 Güneş'in


6-Jüpiter şiirde nasıl anlatılmıştır?


- Küçük
 Soğuk
 Kocaman





Matematik - Toplama İşlemi


Aşağıdaki eldeli toplama işlemlerini örnekteki yapınız.



$$\begin{array}{r} 12 \\ + 18 \\ \hline 30 \end{array}$$



$$\begin{array}{r} 18 \\ + 19 \\ \hline \square \square \end{array}$$



$$\begin{array}{r} 15 \\ + 16 \\ \hline \square \square \end{array}$$



$$\begin{array}{r} 35 \\ + 25 \\ \hline \square \square \end{array}$$


$$\begin{array}{r} 26 \\ + 24 \\ \hline \square \square \end{array}$$


$$\begin{array}{r} 23 \\ + 29 \\ \hline \square \square \end{array}$$


$$\begin{array}{r} 28 \\ + 36 \\ \hline \square \square \end{array}$$


$$\begin{array}{r} 48 \\ + 23 \\ \hline \square \square \end{array}$$


$$\begin{array}{r} 58 \\ + 22 \\ \hline \square \square \end{array}$$

Matematik-Problemler

► Aşağıdaki problemleri çözünüz.

1

Bir sınıfta sabah 37, öğleden sonra 48 kitap toplandı. Toplam kaç kitap toplandı?



--

2

Ayşe'nin kart koleksiyonunda 56 kart vardı. Arkadaşı ona 29 kart daha verdi. Ayşe'nin toplam kaç kartı oldu?



--

3

Bir sepette 26 sarı, 39 yeşil, 18 mavi top vardır. Sarı ve mavi topların toplamı kaçtır?



--

4

Bir otobüsün ilk durağında 45, ikinci durağında 38 yolcu vardı. Otobüste toplam kaç yolcu oldu?



--

5

Bir bahçede 64 çiçek açmıştı. Ertesi gün 27 çiçek daha açtı. Bahçede toplam kaç çiçek oldu?



--

Matematik-Problemler

► Aşağıdaki problemleri çözüünüz.

6

Bir oyunda ilk turda 47, ikinci turda 28 puan alındı. Oyunun sonunda toplam kaç puan oldu?



--

7

Bir okulda sabah 52, öğleden sonra 39 veli ziyareti yapıldı. Toplam kaç veli ziyareti oldu?



--

8

Bir çiftlikte 48 tavuk, 37 civciv vardır. Çiftlikte toplam kaç hayvan vardır?



--

9

Bir gölette 56 ördek vardı. Yanına 29 ördek daha geldi. Gölette toplam kaç ördek oldu?



--

10

Bir arı kovanında 39 arı vardı. Öğleden sonra 47 arı daha kovana döndü. Kovanda toplam kaç arı vardır?



--

