

2. Sınıflar

Hafta Sonu Ev Ödevi

(7-8 Şubat)



[@huseyin.ogretmenn](https://www.instagram.com/huseyin.ogretmenn)



[huseyinogretmenn.com](https://www.huseyinogretmenn.com)

Türkçe- Metin Çalışması

Aşağıdaki metni 3 defa okuyunuz. Sorularını cevaplayıp Türkçe defterinize yazınız.

İNEKLER

İnekler, çiftliklerde yaşayan sevimli hayvanlardır. Büyük ve güçlü vücutları vardır. Genellikle siyah, beyaz ya da kahverengi renkte olurlar. İnekler otlayarak beslenir. Taze ot ve saman yemeyi severler. Süt veren hayvanlar arasında önemli bir yere sahiptirler. İnsanlar inek sütünden yoğurt ve peynir yapar. İnekler sakin ve uysal hayvanlardır. Günün büyük bir bölümünü dinlenerek geçirirler. Yavrularına karşı çok şefkatlidirler. İnekler, çiftlik yaşamının vazgeçilmez hayvanlarıdır.

Aşağıdaki soruları yukarıdaki metne göre cevaplayınız. Ardından boyamayı tamamlayınız.

1-İnekler nerede yaşar?

- Ormanda
- Çiftlikte
- Denizde

2-İnekler genellikle nasıl hayvanlardır?

- Saldırgan
- Sakin
- Tehlikeli


3-İneklerden hangi besin elde edilir?



Türkçe-Bilmeceler

Aşağıdaki bilmeceleri çözüp eşleştiriniz. Ardından boyayınız.

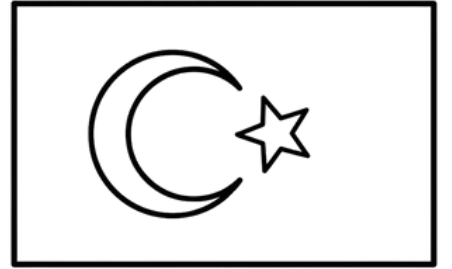
Kırmızı olur rengi,
Gökte dalgalanır sesi.
Ay yıldız üstündedir,
Söyle bakalım bu nedir?




Dört ayağım var benim,
Süt verir her gün elim.
Çiftlikte yaşarım ben,
Kimim ben söyle hemen?



Uzun kulaklıyım ben,
Zıplarım oradan buradan.
Havuç severim çokça,
Kimim ben sence ?



Parlar gökte gündüzleri,
Isıtır yer yüzlerini.
Sabah doğar, akşam batar,
Söyle bakalım bu nedir?



Türkçe - Şiir Çalışması



Aşağıdaki şiiri 5 defa okuyunuz soruları çözüp yapip yanına yeniden yazınız.

Bayrağım

Kırmızı rengi aldır şehitten,
Ay yıldız parlar gökyüzünden.
Dalgaları rüzgârla gururla,
Bayrağımdır en güzel sevdam da.

Yükselir direkte onurla,
Kalbimde yerin apayrı, bambaşka.
Sonsuza dek dalgalan bayrağım,
Sen varsın ya, güçlüdür yarınım.

Blank lined area for writing answers.

Aşağıdaki soruları yukarıdaki şiire göre cevaplayınız.

1- Şiirin başlığını yazar mısın?

.....

2-Şiirde kaç dize vardır?

.....

3-Şiirde kaç kıta vardır?

.....

4-Bayrağın rengi hangisidir?

.....

5-Bayrağın üzerinde ne vardır?

Güneş

Yıldız ve ay

Çiçek

6-Şiire göre bayrak neyi temsil eder?

Oyun

Gurur

Korku

Matematik - Toplama-Çıkarma İşlemleri

Aşağıdaki toplama ve çıkarma işlemlerini yapınız.

$$\begin{array}{r} \text{Hand} \\ 25 \\ + 28 \\ \hline \square \end{array}$$

$$\begin{array}{r} \text{Hand} \\ 27 \\ + 26 \\ \hline \square \end{array}$$

$$\begin{array}{r} \text{Hand} \\ 32 \\ + 29 \\ \hline \square \end{array}$$

$$\begin{array}{r} \text{Hand} \\ 35 \\ + 35 \\ \hline \square \end{array}$$

$$\begin{array}{r} \text{Hand} \\ 32 \\ + 39 \\ \hline \square \end{array}$$

$$\begin{array}{r} \text{Hand} \\ 46 \\ + 26 \\ \hline \square \end{array}$$

$$\begin{array}{r} \text{Hand} \\ 38 \\ + 24 \\ \hline \square \end{array}$$

$$\begin{array}{r} \text{Hand} \\ 36 \\ + 37 \\ \hline \square \end{array}$$

$$\begin{array}{r} \text{O O} \\ 63 \\ - 26 \\ \hline \square \end{array}$$

$$\begin{array}{r} \text{O O} \\ 74 \\ - 38 \\ \hline \square \end{array}$$

$$\begin{array}{r} \text{O O} \\ 90 \\ - 43 \\ \hline \square \end{array}$$

$$\begin{array}{r} \text{O O} \\ 72 \\ - 29 \\ \hline \square \end{array}$$

$$\begin{array}{r} \text{O O} \\ 74 \\ - 55 \\ \hline \square \end{array}$$

$$\begin{array}{r} \text{O O} \\ 48 \\ - 19 \\ \hline \square \end{array}$$

$$\begin{array}{r} \text{O O} \\ 51 \\ - 33 \\ \hline \square \end{array}$$

$$\begin{array}{r} \text{O O} \\ 66 \\ - 38 \\ \hline \square \end{array}$$

Matematik - Toplama İşlemi

Aşağıdaki verilmeyen toplananları örnekteki gibi yapınız.

$$\begin{array}{r} 23 \\ + 33 \\ \hline 56 \end{array} \quad \begin{array}{r} 56 \\ - 23 \\ \hline 33 \end{array}$$

$$\begin{array}{r} 32 \\ + \square \\ \hline 78 \end{array} \quad \begin{array}{r} \square \\ - \square \\ \hline \square \end{array}$$

$$\begin{array}{r} 44 \\ + \square \\ \hline 67 \end{array} \quad \begin{array}{r} \square \\ - \square \\ \hline \square \end{array}$$

$$\begin{array}{r} \square \\ + 23 \\ \hline 66 \end{array} \quad \begin{array}{r} \square \\ - \square \\ \hline \square \end{array}$$

$$\begin{array}{r} \square \\ + 54 \\ \hline 86 \end{array} \quad \begin{array}{r} \square \\ - \square \\ \hline \square \end{array}$$

$$\begin{array}{r} \square \\ + 42 \\ \hline 98 \end{array} \quad \begin{array}{r} \square \\ - \square \\ \hline \square \end{array}$$

$$\begin{array}{r} 25 \\ + \square \\ \hline 54 \end{array} \quad \begin{array}{r} \square \\ - \square \\ \hline \square \end{array}$$

$$\begin{array}{r} 43 \\ + \square \\ \hline 62 \end{array} \quad \begin{array}{r} \square \\ - \square \\ \hline \square \end{array}$$

$$\begin{array}{r} 26 \\ + \square \\ \hline 70 \end{array} \quad \begin{array}{r} \square \\ - \square \\ \hline \square \end{array}$$

$$\begin{array}{r} \square \\ + 22 \\ \hline 81 \end{array} \quad \begin{array}{r} \square \\ - \square \\ \hline \square \end{array}$$

$$\begin{array}{r} \square \\ + 63 \\ \hline 80 \end{array} \quad \begin{array}{r} \square \\ - \square \\ \hline \square \end{array}$$

$$\begin{array}{r} \square \\ + 46 \\ \hline 93 \end{array} \quad \begin{array}{r} \square \\ - \square \\ \hline \square \end{array}$$

