

2.Sınıflar

Hafta Sonu Ev Ödevi

[1-2 Kasım]



- Metin çalışması
- Hikaye Tamamlama
- Noktalama işaretleri



Sayıları Çözümleme

- Basamak adları
- Basamak Değeri



@huseyin.ogretmenn



t.me/huseyinogretmen

Türkçe- Metin Çalışması

Aşağıdaki metni 3 defa okuyunuz. Sorularını cevaplayıp Türkçe defterinize yazınız.

Yağmurun Sürprizi

Sabah uyanan Elif, pencereden dışarı baktı. Gökyüzü griydi ve yağmur damlaları cama vuruyordu. Elif okula giderken şemsiyesini aldı. Yolda su birikintilerinde zıplayan kurbağaları gördü. Bir tanesi "vak vak" diye ses çıkardı, Elif gülmeye başladı. Okula vardığında arkadaşlarının da ıslanmadan geldiğini gördü. Öğretmeni gülümseyerek, "Yağmur bazen bizi ıslatır ama her damlası toprağa umut taşır," dedi. Elif o gün yağmuru sevmeyi öğrendi. Akşam eve dönünce pencereden gökkuşağını görünce içi mutlulukla doldu.

Aşağıdaki soruları yukarıdaki metne göre cevaplayınız. Ardından boyamayı tamamlayınız.

1-Elif sabah uyandığında hava nasıldı?

- Güneşliydi
- Gri ve yağmurluydu
- Karlıydı

2- Elif akşam ne görünce mutlu oldu?

- Kar tanelerini
- Güneşi
- Gökkuşağını

3- Öğretmen ne söyledi?

.....
.....



Türkçe- Noktalama İşaretleri

➤ Aşağıdaki cümlelere uygun noktalama işaretlerini getiriniz.

★ Evde kaç kişi var()

★ Okul kaçta başlıyor()







★ Kalem() silgi() defter çantamdadır. ★ Bugün okula gittim()

★ Yakup()un ayakkabısı nerede () ★ Sınıfın camı kırılmış ()

★ () Bugün çok mutluyum diye bağırdı. ★ Öğretmen () Sessiz olun () dedi.

★ Evden çilek() üzüm ve kek getirdim. ★ Bugün yağmur yağdı()

➤ Aşağıdaki noktalama işaretlerinin isimlerini yazarak boyayınız.



Türkçe- Hikayeyi Tamamla

Adı- Soyadı:

Sınıfı:

Annem yeni bir buzdolabı almıştı. Buzdolabının kapağında büyük, kırmızı bir düğme vardı Merak edip düğmeye bastım. Bir anda buzdolabının içinden

Yukarıdaki hikayene göre resmi tamamla ve boya.



Matematik: Basamak Adları

► Aşağıdaki sayıları örnekteki gibi onluk birliklerine ayırınız ve basamak adlarını yazınız.

28

2 Onluk 8 Birlik

Onlar Basamağı Birler Basamağı

35

56

68

81

29

22

73

Matematik: Basamak Deęeri

➤ Ařaęıdaki sayıları rnekteki gibi onluk birliklerine ayırınız ve basamak deęerlerini yazınız.

48

4 onluk 8 Birlik

40 8

10-20-30+40

15

37

53

84

62


95

70

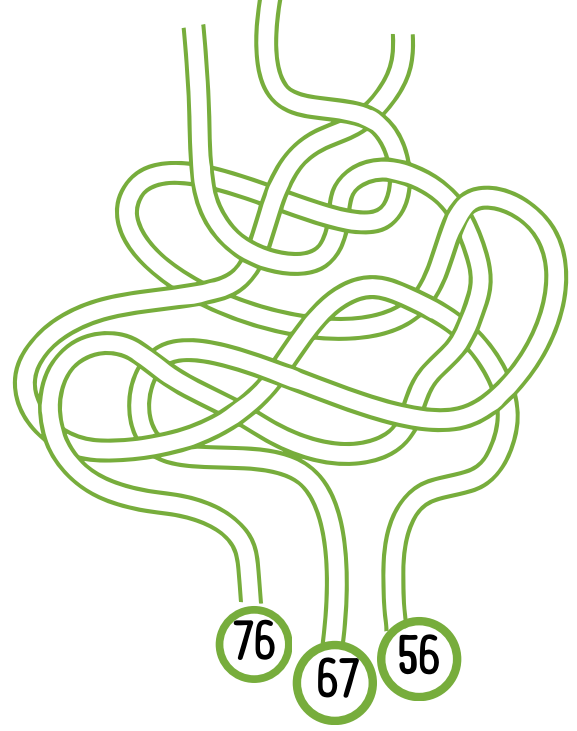
Matematik: Onluk Birlik

► Aşağıda çözümü verilen onluk birlikleri sayılarına ulaştırınız.


8 onluk 2 birlik



7 onluk 6 birlik



5 onluk 1 birlik



9 onluk 3 birlik

