

1. Sınıflar

Hafta Sonu Ev Ödevi

(4-5 Nisan)



[@huseyin.ogretmenn](https://www.instagram.com/huseyin.ogretmenn)



[huseyinogretmenn.com](https://www.huseyinogretmenn.com)



Aşağıdaki cümleleri okuyunuz. Sorularını cümlelere uygun cevaplayınız.

→ Zeynep sabah kitap okudu.


 Kim okudu?

 Ne okudu?

 Ne zaman okudu?

→ Annesi Ayşe'ye su verdi.

 Kim verdi?


 Kime su verdi?

 Ne verdi?

→ Elif kütüphanede kitap seçti.

 Kim seçti?


 Ne seçti?

 Nerede seçti?

→ Ahmet sınıfta resim yaptı.

 Kim yaptı?

 Ne yaptı?

 Nerede yaptı?

→ Buse arkadaşına mektup yazdı.

 Kim yazdı?


 Ne yazdı?

 Kime yazdı?

→ Öğretmen tahtaya yazı yazdı.

 Kim yazdı?

 Ne yazdı?

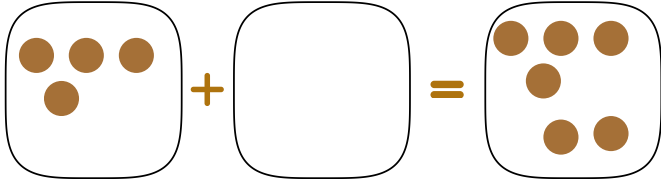
 Nereye yazdı?

Verilmeyen Toplananı Bulma

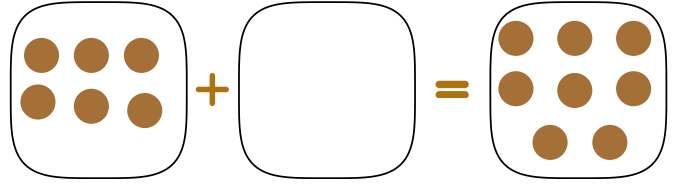
4 Nisan 2026



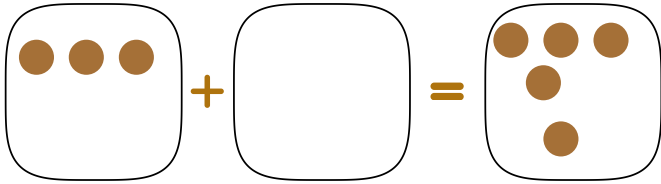
Aşağıdaki toplama işlemlerinde verilmeyen toplananları bulup yapalım.



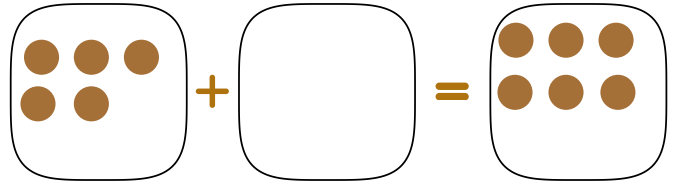
$$4 + \quad = 6$$



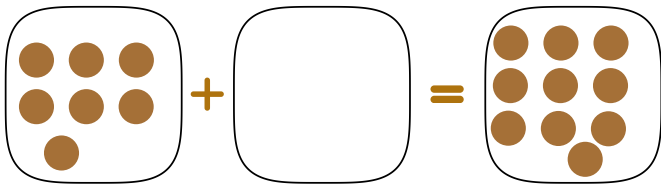
$$6 + \quad = 8$$



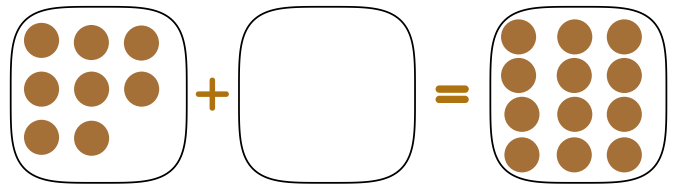
$$3 + \quad = 7$$



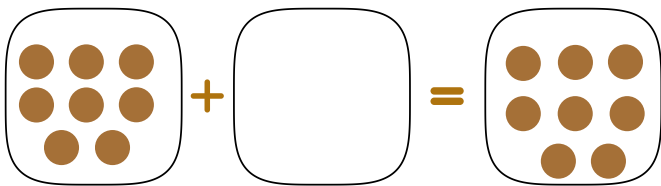
$$5 + \quad = 6$$



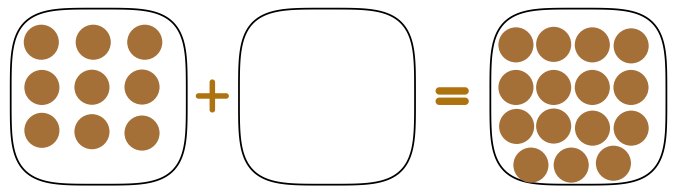
$$7 + \quad = 10$$



$$8 + \quad = 12$$



$$8 + \quad = 8$$



$$9 + \quad = 15$$


Verilmeyen Toplananı Bulma

4 Nisan 2026




Aşağıdaki bilmeceleri çözelim. Görselleri ile eşleştirip, boyayalım.


Güne başlar her sabah,
Isıtır dünyayı oh ne rahat!




Minik minik taneler,
Serinlenir her yer.




Gece olunca parlar gökte,
Sayamazsın hepsi çok, binlerce!



Kırmızı başı, yeşil sapı,
Yemeğe konur, nefis tadı.



Elimizde tutarız,
Yazar çizer unuttur muzuz?



Verilmeyen Toplananı Bulma

4 Nisan 2026



Aşağıdaki toplama işlemlerinde verilmeyen toplananları çıkarma işlemlerini yaparak bulalım.



$$6 + \square = 9$$
$$\begin{array}{r} \square \\ - \\ \hline \square \end{array}$$



$$8 + \square = 13$$
$$\begin{array}{r} \square \\ - \\ \hline \square \end{array}$$



$$\square + 7 = 11$$
$$\begin{array}{r} \square \\ - \\ \hline \square \end{array}$$



$$\square + 5 = 15$$
$$\begin{array}{r} \square \\ - \\ \hline \square \end{array}$$



$$9 + \square = 14$$
$$\begin{array}{r} \square \\ - \\ \hline \square \end{array}$$



$$8 + \square = 16$$
$$\begin{array}{r} \square \\ - \\ \hline \square \end{array}$$





Aşağıdaki şiiri 5 defa okuyup çizgili defterimize yazalım. Ardından sorularını çözüp, boyayalım.

NEŞELİ ROBOT

Bir robot var, çalışır dans eder,
"Metalim gri, gözlerim yeşil ister."
Butonları kırmızı, ışıkları sarı,
Boyayınca olacak dünyalar tatlısı!

Butonları hangi renklerde olacak?



Verilmeyen Toplananı Bulma

5 Nisan 2026



Aşağıdaki toplama işlemlerinde verilmeyen toplananları çıkarma işlemlerini yaparak bulalım.

$$2 + \square = 5$$

$$\begin{array}{r} \square \\ \square \\ \hline \square \end{array}$$

$$3 + \square = 7$$

$$\begin{array}{r} \square \\ \square \\ \hline \square \end{array}$$

$$\square + 5 = 9$$

$$\begin{array}{r} \square \\ \square \\ \hline \square \end{array}$$

$$4 + \square = 8$$

$$\begin{array}{r} \square \\ \square \\ \hline \square \end{array}$$

$$6 + \square = 12$$

$$\begin{array}{r} \square \\ \square \\ \hline \square \end{array}$$

$$\square + 6 = 10$$

$$\begin{array}{r} \square \\ \square \\ \hline \square \end{array}$$

$$\square + 7 = 13$$

$$\begin{array}{r} \square \\ \square \\ \hline \square \end{array}$$

$$4 + \square = 16$$

$$\begin{array}{r} \square \\ \square \\ \hline \square \end{array}$$

$$7 + \square = 13$$

$$\begin{array}{r} \square \\ \square \\ \hline \square \end{array}$$

$$\square + 9 = 18$$

$$\begin{array}{r} \square \\ \square \\ \hline \square \end{array}$$

Aşağıdaki metni 3 defa okuyunuz. Türkçe defterlerinize yazınız.

TONTON'UN ELMASI

Tonton, bahçede dolaşırken yerde kocaman kırmızı bir elma buldu. Elmayı eline aldı ve kokladı. "Ne güzel kokuyor!" dedi. Sonra elmayı annesine götürdü. Annesi gülümseyerek, "Bu elmayı yıkayalım ve birlikte yiyelim," dedi. Tonton çok mutlu oldu.


1-Tonton bahçede ne bulmuştur?

- Kırmızı bir elma
- Yeşil bir armut
- Turuncu bir havuç



2- Elmayı alınca ne dedi?

- Çok tatlı
- Ne güzel kokuyor?
- Tadı güzel değil.



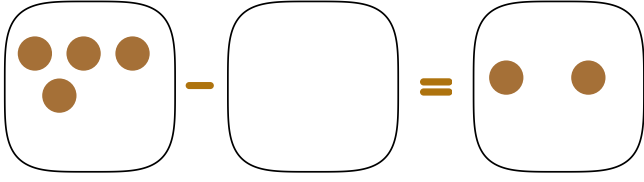
3-Annesi ne dedi?

Verilmeyen Çıkanı Bulma

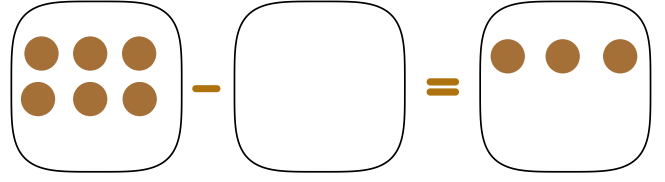
5 Nisan 2026



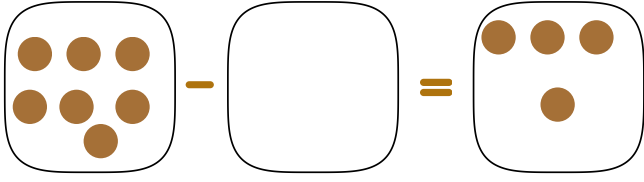
Aşağıdaki toplama işlemlerinde verilmeyen toplananları bulup yapalım.



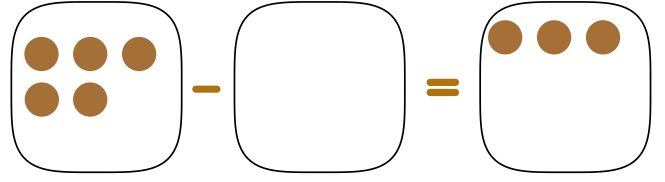
$$4 - \quad = 2$$



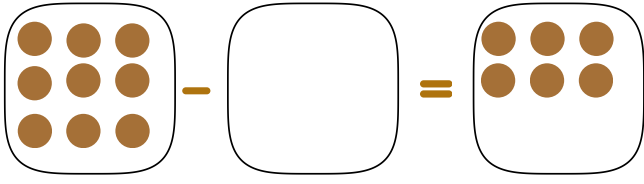
$$6 - \quad = 3$$



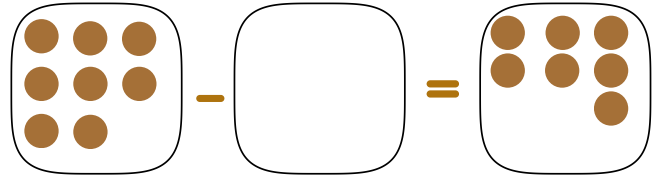
$$7 - \quad = 4$$



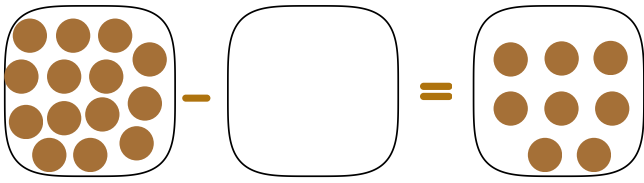
$$5 - \quad = 3$$



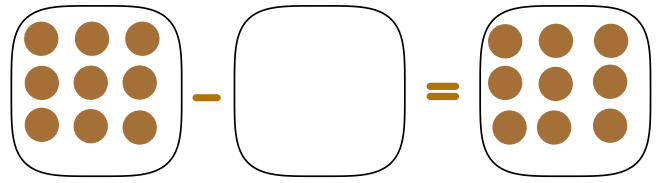
$$9 - \quad = 6$$



$$8 - \quad = 7$$



$$14 - \quad = 8$$



$$9 - \quad = 9$$

< huseyin.ogretmenn  

 Hüseyin ÖZTÜRK

334 gönderi 50,4B takipçi 500 takip

Eğitim  



Çalışmalarımı beğendiyseniz destek olmak için sayfamı takip etmeyi, beğenmeyi ve kaydetmeyi unutmayınız.



huseyin.ogretmenn



www.huseyinogretmenn.com