

2.Sınıf

Matematik 2.Tema

Süreç Odaklı Değerlendirme Çalışması





2.SINIF MATEMATİK 2. TEMA SAYILAR VE NİCELİKLER SÜREÇ ODAKLI DEĞERLENDİRME ÇALIŞMASI

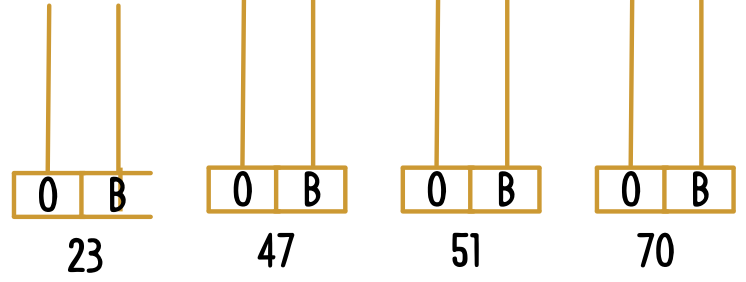
1 Aşağıdaki doğal sayıların okunuşlarını yazınız.

5	
12	
32	
53	
47	
78	
81	
90	

2 Aşağıdaki sayıları onluk birliklerine ayırınız.

21	onluk	birlik
32	onluk	birlik
56	onluk	birlik
62	onluk	birlik
77	onluk	birlik
89	onluk	birlik

3 Verilen sayıları abaküs üzerinde kalp çizerek onluk ve birliklerini gösterelim.



4 Aşağıdaki sayıların basamak adları ve basamak değerlerini yazınız.

36		
Basamağı	<input type="text"/>	Basamağı
Basamak Değeri	<input type="text"/>	Basamak Değeri

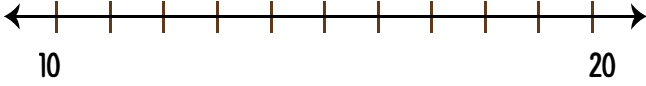


73		
Basamağı	<input type="text"/>	Basamağı
Basamak Değeri	<input type="text"/>	Basamak Değeri

28		
Basamağı	<input type="text"/>	Basamağı
Basamak Değeri	<input type="text"/>	Basamak Değeri

65		
Basamağı	<input type="text"/>	Basamağı
Basamak Değeri	<input type="text"/>	Basamak Değeri

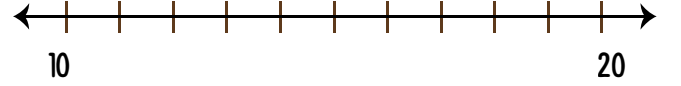


5 Aşağıdaki nesnelere sayalım. Sayı doğrusu üzerinde yerini gösterelim. Uygun kutucuğa tik atalım.



10'a yakındır.


20'ye yakındır.




10'a yakındır.

20'ye yakındır.


6 35'ten başlayarak geriye doğru beşer ritmik sayıp yazar mısın?



7 24'ten başlayarak ileriye doğru ikişer ritmik sayıp yazar mısın?



8 27'den başlayarak geriye doğru üçer ritmik sayıp yazar mısın?



Geliştirilmeli (0-6 p)	Yeterli (7-13 p)	İyi (14-20 p)	Çok İyi (21-27 p)

2.Sınıf Süreç Odaklı Değerlendirme Formu

Matematik 2. Tema Sayılar ve Nicelikler

Bu form Matematik dersi için "Sayılar ve Nicelikler" tema çalışmasını değerlendirmek amacıyla hazırlanmıştır.
Her doğru cevap 1 puandır.

	Adı-Soyadı	Toplam Puan	Değerlendirme
1			
2			
3			
4			
5			
6			
7			
8			
9			
10			
11			
12			
13			
14			
15			
16			
17			
18			
19			
20			
21			
22			
23			
24			
25			
26			
27			
28			
29			
30			
31			
32			
33			
34			
35			
36			
37			
38			