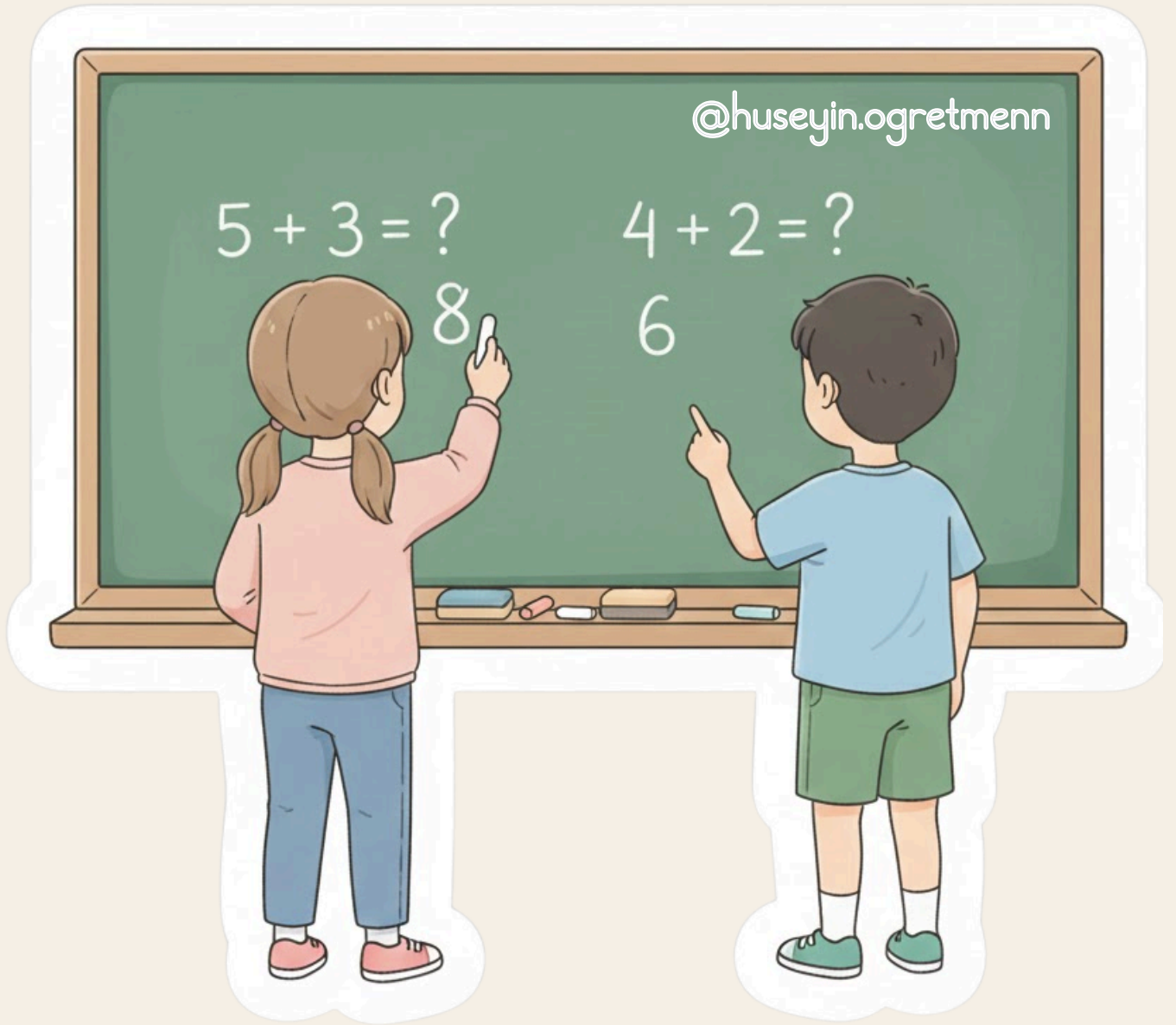


2.Sınıf

Matematik

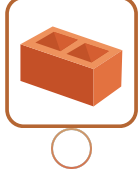
1.Dönem Genel Tekrar



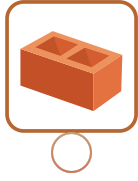


2.SINIF 1.DÖNEM MATEMATİK GENEL TEKRAR

1 Aşağıda verilen nesnelere hangisi köşelidir?



2 Aşağıda verilen nesnelere hangisi yuvarlaktır?



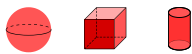
3 Üçgen prizma için hangisi doğrudur?

- Yuvarlak bir cisimdir.
- Kenarları vardır.
- 8 tane köşesi vardır.

4 Konserveli kutusu hangi geometrik cisme benzer?

- Küp
- Kare prizma
- Silindir

5 Top hangi cisme benzer?



- Küre
- Küp
- Silindir

6 3 kenarı olan geometrik şekil hangisidir?

- Kare
- Dikdörtgen
- Üçgen

7 Köşesi olmayan geometrik şekil hangisidir?

- Kare
- Çember
- Üçgen

8 Aşağıdakilerden hangisi ile sıvıları ölçebiliriz?


- Cetvel
- Terazisi
- Kap

9 Sıvılar hangi birimle ölçülür?

- Litre
- Kilogram
- Metre



10 Hangisi daha çok sıvı alır?





2.SINIF 1.DÖNEM MATEMATİK GENEL TEKRAR

11 "Kırk beş" sayısının yazılışı hangisidir?

- 54
 45
 40

12 28 sayısının okunuşu hangisidir?

- Yirmi sekiz
 Seksen iki
 Yirmi altı

13 47 sayısında kaç onluk vardır?

- 7 onluk vardır.
 4 onluk vardır.
 5 onluk vardır.

14 58 sayısında kaç onluk, kaç birlik vardır?



- 4 onluk – 8 birlik
 8 onluk – 5 birlik
 5 onluk – 8 birlik

15 36 sayısında 3 rakamının basamak değeri kaçtır?

- 3 36 30

16 Aşağıdaki nesnelere hangi onluğa yakındır?

- 10
 Ortada
 20



17 İkişer ileriye ritmik saymada 8'den sonra gelen sayı hangisidir?

- 6 10 12

18 Beşer geriye ritmik saymada 35'ten önce gelen sayı hangisidir?

- 30 40 45

19 Üçer ritmik saymada 9'dan sonra gelen sayı hangisidir?

- 10 11 12

20 Dörder ritmik saymada 12 ile 20 arasındaki sayı kaçtır?

- 13 16 18

@huseyin.ogretmenn





2.SINIF 1.DÖNEM MATEMATİK GENEL TEKRAR

21 $24 + 15 = ?$

 29

 39

 49

22 $\begin{array}{r} 24 \\ +38 \\ \hline \end{array}$ $\begin{array}{r} 36 \\ +39 \\ \hline \end{array}$ Sayılardan hangisi işlemlerin sonucu değildir?

 62

 69

 75

23 $56 - 12 = ?$

 40

 42

 44

24 $\begin{array}{r} 59 \\ -38 \\ \hline \end{array}$ $\begin{array}{r} 74 \\ -38 \\ \hline \end{array}$ Sayılardan hangisi işlemlerin sonucu değildir?

 15

 21

 36

25 Ayşe'nin 18 kalemi vardı. Annesi 7 kalem daha aldı. Ayşe'nin toplam kaç kalemi oldu?

 25

 26

26 Bir sepette 24 elma vardır. Pazardan 16 elma daha alınmıştır. Sepette kaç elma olur?

 40

 41

 42

27 Ali'nin 35 bilyesi vardı. 14 bilyesini arkadaşına verdi. Ali'nin kaç bilyesi kaldı?

 20

 21

 22

28 Bir çiftlikte 42 koyun vardı. 18 koyun satıldı. Çiftlikte kaç koyun kaldı?

 20

 22

 24

29 Bir sınıfta 13 kız, 17 erkek öğrenci vardır. Sınıfta toplam kaç öğrenci vardır?

 30

 31

 32

@huseyin.ogretmenn

