



- Yarıyıl tatili için tekrar ve pekiştirme
- 2.sınıf kazanımlarına uygun
- Eğlenceli ve sade etkinlikler



@huseyin.ogretmenn



www.huseyinogretmenn.com

@huseyin.ogretmenn

2.Sınıf

Yarıyıl Tatilinde

Sayılarla Macera Kitabım

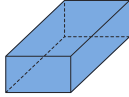
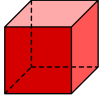

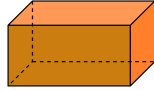
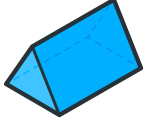


Hazırlayan: Hüseyin ÖZTÜRK



Cisimler Dünyasına Yolculuk

❄ Aşağıda verilen geometrik cisimlerin isimlerini yazınız.



❄ Aşağıdaki ifadelerde doğru olanlara D yanlış olanlara Y yazınız.

 Masa dikdörtgen prizmaya örnektir. Küp yuvarlak bir cisimdir. Pil, silindire örnektir. Kare prizma köşelidir.

Çıkarma İşlemi Problemleri

1 Bir çiftlikte 68 koyun vardı.
Koyunlardan 23 tanesi satıldı.
Çiftlikte kaç koyun kaldı?



2 Bir gölette 58 ördek vardı. 24 tanesi ayrıldı. Kaç ördek kaldı?



3 Bir sınıfta 76 balon vardı.
Balonlardan 34 tanesi patladı.
Kaç balon kaldı?



4 Bir otobüste 36 yolcu vardı.
Durakta 26 yolcu indi. Geriye kaç yolcu kalmıştır?



5 Babam bize 58 mandalina aldı. 25 tanesini yedik. Geriye kaç mandalina kaldı?



@huseyin.ogretmen



Sayıların Gizemi: Çıkarma İşlemi

❄️ Aşağıdaki çıkarma işlemlerini örnekteki gibi yapınız.

$$\begin{array}{r} 415 \\ - 55 \\ \hline 360 \\ - 36 \\ \hline 224 \\ \hline 19 \end{array}$$

$$\begin{array}{r} \square\square \\ 56 \\ - 33 \\ \hline \square\square \end{array}$$

$$\begin{array}{r} \square\square \\ 43 \\ - 24 \\ \hline \square\square \end{array}$$

$$\begin{array}{r} \square\square \\ 57 \\ - 28 \\ \hline \square\square \end{array}$$

$$\begin{array}{r} \square\square \\ 66 \\ - 38 \\ \hline \square\square \end{array}$$

$$\begin{array}{r} \square\square \\ 68 \\ - 39 \\ \hline \square\square \end{array}$$

$$\begin{array}{r} \square\square \\ 52 \\ - 35 \\ \hline \square\square \end{array}$$

$$\begin{array}{r} \square\square \\ 63 \\ - 27 \\ \hline \square\square \end{array}$$

$$\begin{array}{r} \square\square \\ 40 \\ - 26 \\ \hline \square\square \end{array}$$

$$\begin{array}{r} \square\square \\ 50 \\ - 33 \\ \hline \square\square \end{array}$$

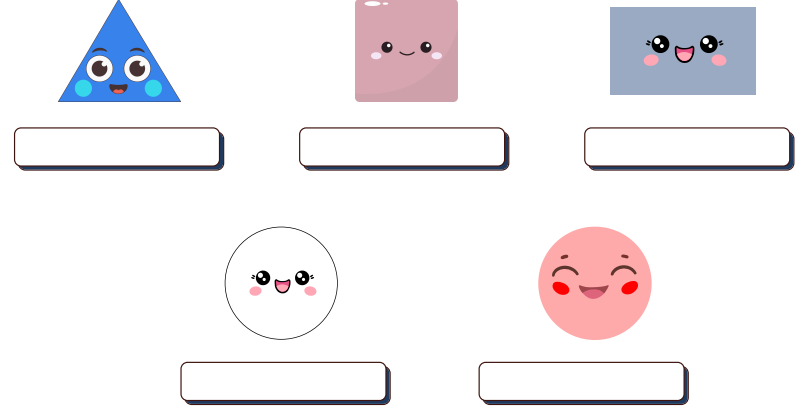
$$\begin{array}{r} \square\square \\ 60 \\ - 45 \\ \hline \square\square \end{array}$$

$$\begin{array}{r} \square\square \\ 70 \\ - 29 \\ \hline \square\square \end{array}$$




Şekillerle Eğlenceli Yolculuk

❄️ Aşağıda verilen geometrik şekillerin isimlerini yazınız.



❄️ Aşağıdaki resimde üçgen, kare, dikdörtgen ve çember sayılarını bulalım.



Üçgen:

Dikdörtgen:

Kare:

Çember:

@huseyin.ogretmen




Sıvı Dedektifleri: Ölç, Dök, Eğlen!

❄️ Görseldeki standart olmayan sıvı ölçme araçlarını bularak işaretleyelim.



❄️ Kovadaki suyu hangisine boşaltırsak diğerlerine göre çabuk dolabilir.



Sayıların Gizemi: Çıkarma İşlemi

❄️ Aşağıdaki çıkarma işlemlerini yapınız.

$$\begin{array}{r} 45 \\ - 34 \\ \hline \square \end{array}$$

$$\begin{array}{r} 55 \\ - 32 \\ \hline \square \end{array}$$

$$\begin{array}{r} 67 \\ - 26 \\ \hline \square \end{array}$$

$$\begin{array}{r} 34 \\ - 22 \\ \hline \square \end{array}$$

$$\begin{array}{r} 45 \\ - 21 \\ \hline \square \end{array}$$

$$\begin{array}{r} 56 \\ - 34 \\ \hline \square \end{array}$$

$$\begin{array}{r} 76 \\ - 53 \\ \hline \square \end{array}$$

$$\begin{array}{r} 68 \\ - 25 \\ \hline \square \end{array}$$

$$\begin{array}{r} 89 \\ - 72 \\ \hline \square \end{array}$$

$$\begin{array}{r} 65 \\ - 55 \\ \hline \square \end{array}$$

$$\begin{array}{r} 84 \\ - 63 \\ \hline \square \end{array}$$

$$\begin{array}{r} 69 \\ - 55 \\ \hline \square \end{array}$$



Toplama İşlemi Problemleri

1 Bir çiftlikte 36 koyun ve 47 inek vardır. Toplam kaç hayvan vardır?



2 Bir gölette 58 ördek, 27 kaz vardır. Toplam kaç hayvan vardır?



3 Bir kitaplıkta 38 kitap ve 47 kitap var. Toplam kaç kitap vardır?



4 Bir otobüste önce 22 öğrenci sonra 29 öğrenci daha bindi. Toplam kaç öğrenci binmiştir?



5 Bir sepette 28 elma ve 22 armut vardır. Toplam kaç meyve vardır?



15



İki Basamağın Gizemi

❄️ Aşağıdaki doğal sayıların okunuşlarını yazınız.

12 On iki

18

23

43

16

38

29

55

❄️ Aşağıda okunuşu verilen sayıları yazınız.

on üç 13

elli dört

on beş

altmış bir

yirmi iki

seksen üç

otuz yedi

doksan iki

@huseyin.ogretmen

4



İki Basamağın Gizemi

1	2	3		5		7		9	10
11	12		14	15			18	19	
21		23	24		26	27			30
	32	33		35	36	37		39	40
		43	44	45		47		49	
51		53	54			57	58		60
	62	63		65	66		68		70
71	72		74	75		77	78		
81	82			85			88		90
91	92			95	96			99	100

En küçük iki basamaklı doğal sayı kaçtır?

En büyük iki basamaklı doğal sayı kaçtır?



Sayıların Buluşması: Toplama Zamanı!

$$\begin{array}{r} 12 \\ + 18 \\ \hline 30 \end{array}$$

$$\begin{array}{r} 17 \\ + 16 \\ \hline \square \square \end{array}$$

$$\begin{array}{r} 14 \\ + 18 \\ \hline \square \square \end{array}$$

$$\begin{array}{r} 37 \\ + 26 \\ \hline \square \square \end{array}$$

$$\begin{array}{r} 28 \\ + 24 \\ \hline \square \square \end{array}$$

$$\begin{array}{r} 35 \\ + 29 \\ \hline \square \square \end{array}$$

$$\begin{array}{r} 38 \\ + 49 \\ \hline \square \square \end{array}$$

$$\begin{array}{r} 24 \\ + 67 \\ \hline \square \square \end{array}$$













$$\begin{array}{r} 36 \\ + 56 \\ \hline \square \square \end{array}$$

@huseyin.ogretmen



Sayıların Buluşması: Toplama Zamanı!










❄️ Aşağıdaki toplama işlemlerini yapınız.

 $\begin{array}{r} 12 \\ + 16 \\ \hline \square \square \end{array}$	 $\begin{array}{r} 14 \\ + 12 \\ \hline \square \square \end{array}$	 $\begin{array}{r} 13 \\ + 14 \\ \hline \square \square \end{array}$	 $\begin{array}{r} 17 \\ + 12 \\ \hline \square \square \end{array}$
 $\begin{array}{r} 22 \\ + 24 \\ \hline \square \square \end{array}$	 $\begin{array}{r} 27 \\ + 32 \\ \hline \square \square \end{array}$	 $\begin{array}{r} 36 \\ + 33 \\ \hline \square \square \end{array}$	 $\begin{array}{r} 44 \\ + 25 \\ \hline \square \square \end{array}$
 $\begin{array}{r} 24 \\ + 25 \\ \hline \square \square \end{array}$	 $\begin{array}{r} 63 \\ + 32 \\ \hline \square \square \end{array}$	 $\begin{array}{r} 47 \\ + 22 \\ \hline \square \square \end{array}$	 $\begin{array}{r} 60 \\ + 36 \\ \hline \square \square \end{array}$



Onluklar ve Birlikler Yolculuğu

❄️ Aşağıdaki arıların onluk ve birliklerini yazarak ve boyayarak tamamlayınız.

 Onluk 25 Birlik	 Onluk 32 Birlik	 Onluk 48 Birlik
 Onluk 17 Birlik	 Onluk 38 Birlik	 Onluk 56 Birlik
 Onluk 65 Birlik	 Onluk 49 Birlik	 Onluk 89 Birlik



Onluklar ve Birlikler Yolculuğu

❄️ Aşağıdaki sayıları örnekteki gibi onluk birliklerine ayırınız ve basamak değerlerini yazınız.

48

4 onluk 8 Birlik

40 8

10-20-30-40

15

37

53

84

62

95

70

7



Ritmik Adımlarla Geri!

27 30

3

36 40

4

45 50


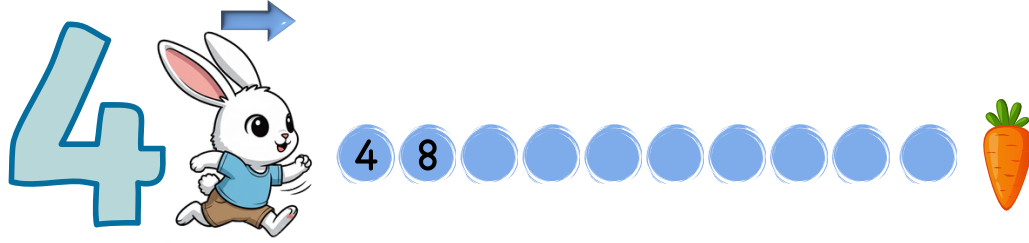

5

@huseyin.ogretmen

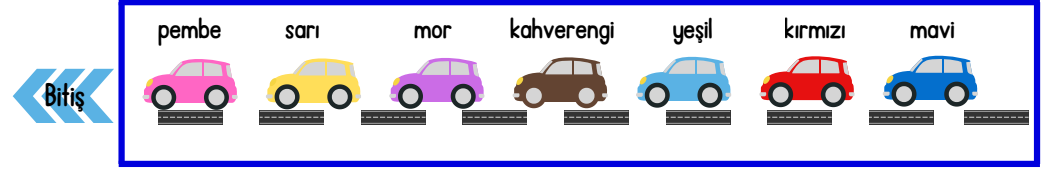
12



Ritmik Adımlarla İleri!



Sayı Doğrusunu Çiziyorum!



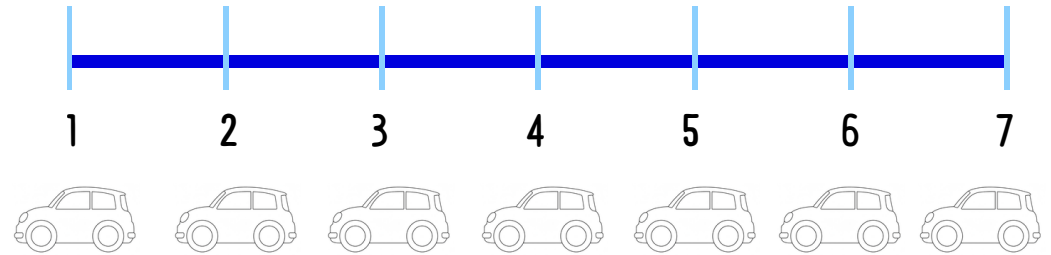
Yarıştta hangi renk araba birinci oldu?

Kırmızı renkli araba kaçınıcı olmuştur?

Mor renkteki araba kaçınıcı olmuştur?

Yarıştta hangi araba sonuncu olmuştur?

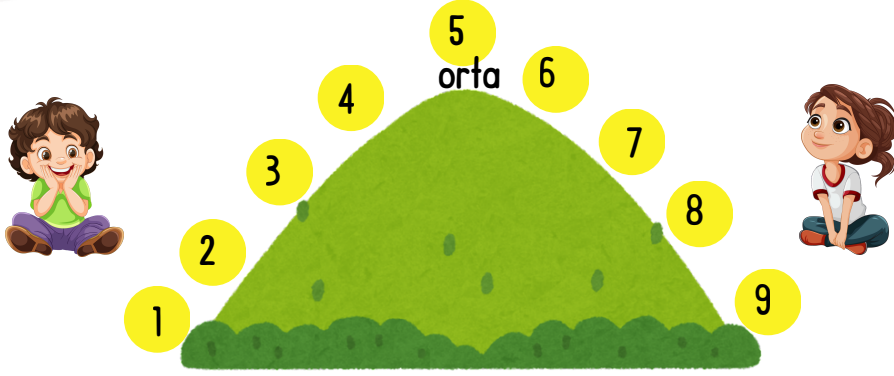
Yeşil renkteki arabadan önce hangisi vardır?



@huseyin.ogretmen



Hangi Onluğa Daha Yakın?



Aşağıdaki sayıları inceleyiniz. Hangi onluğlara daha yakınsa yazınız.

18 → ★

24 → ★

36 → ★

42 → ★

29 → ★

13 → ★

56 → ★

54 → ★

59 → ★

67 → ★

11 → ★

72 → ★

85 →



82 → ★

94 → ★





Sayı Düellosu: Büyük Mü, Küçük Mü?

Aşağıdaki sayılardan küçük olanın ilgili boyamasını yapınız.



Aşağıdaki sayılardan büyük olanın ilgili boyamasını yapınız.



@huseyin.ogretmen