


Sayı Doğrusu- Cetvel Etkinliği

➤ Cetveli inceleyelim. Soruları cevaplayalım.



Cetvelde hangi sayı ile başlamıştır?

Cetvelde kaç aralık vardır?

1'den önce hangi sayı vardır?

8'den sonra hangi sayı vardır?

3 ile 5 arasında hangi sayı vardır?

12'den önce hangi sayı vardır?

18'den önce hangi sayı vardır?

12'den sonra hangi sayı vardır?

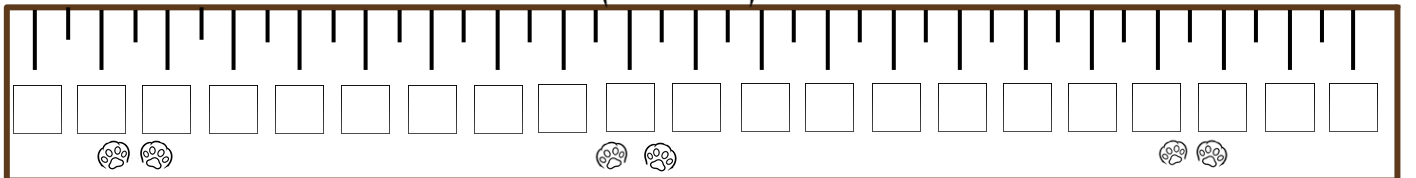
12 ile 14 arasında hangi sayı vardır?

17'den sonra hangi sayı vardır?

Cetvelde hangi sayı ile bitmiştir?

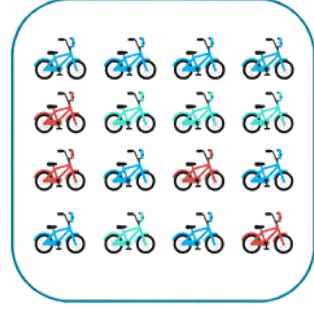
12 sayısı 10' mı yoksa 20' ye mi yakındır?

➤ Aşağıda kendi cetvelini oluşturup boyayabilir misin?



Sayı Doğrusu

► Aşağıdaki taşıtları sayalım. Sayı doğrusu üzerinde yerini gösterelim. Uygun kutucuğa tik atınız.




10'a yakındır.

20'ye yakındır.

10'a yakındır.

20'ye yakındır.

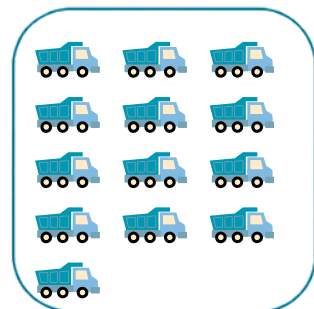



10'a yakındır.

20'ye yakındır.

10'a yakındır.

20'ye yakındır.



10'a yakındır.

20'ye yakındır.

10'a yakındır.

20'ye yakındır.

Sayı Doğrusu

► Aşağıdaki oyuncakları sayalım. Sayı doğrusu üzerinde yerini gösterelim. Uygun kutucuğa tik atınız.

